



BA – AÖL / 2012 – III.DÖNEM - Pazar 16.00

ALTINCI OTURUM

TEST GRUBUNUZ

B

CEVAP KÂĞIDINIZA İŞARETLEMİYİ UNUTMAYINIZ.

ÖĞRENCİNİN

SOYADI :

ADI :

ÖĞRENCİ NO :

SINAV SALON NO: SIRA NO:

Soyadınızı, adınızı, öğrenci numaranızı, salon ve sıra numaranızı yukarıya yazmayı unutmayınız.

GENEL AÇIKLAMA

1. Bu soru kitapçığındaki testler şunlardır:

Testin Adı	Soru Sayısı	Sayfa No
DİN KÜLTÜRÜ VE AHLAK BİLGİSİ 6	20	2
DİN KÜLTÜRÜ VE AHLAK BİLGİSİ 8	20	4
TARİH 2	20	6
COĞRAFYA 4	20	8
MATEMATİK 2	20	10
YABANCI DİL 3 (ALM.3, FRA.3, İNG.3)	20	13
HUKUK 1	20	22
DİL VE ANLATIM 3	20	24
TÜRK EDEBİYATI 7	20	27
FİZİK 3	20	29
BİYOLOJİ 1	20	33

Testin Adı	Soru Sayısı	Sayfa No
BİYOLOJİ 5	20	36
BİYOLOJİ 8	20	38
MANTIK 1	20	40
TRAFİK VE İLK YARDIM BİLGİSİ 2	20	42
SEÇMELİ DİL VE ANLATIM 3	20	44
SEÇMELİ TÜRK EDEBİYATI 3	20	47
GİRİŞİMCİLİK 1	20	49
YABANCI DİL 7 (ALM.7, FRA.7, İNG.7)	20	51
FİZİK 4	20	60
SEÇMELİ YABANCI DİL 7 (ALM.7, FRA.7, İNG.7)	20	63
SEÇMELİ TÜRK EDEBİYATI 7	20	72

2. Bu kitapçıkta yer alan her bir test için cevaplama süresi **30 dakika**, toplam sınav süresi **150** dakikadır.
3. Cevaplamaya istediğiniz testin, istediğiniz sorusundan başlayabilirsiniz. Yalnız cevaplarınızı, cevap kâğıdında o test için ayrılmış olan bölümdeki aynı numaralı cevap yerine işaretlemeyi unutmayınız.
4. Cevaplarınızı koyu siyah ve yumuşak bir kurşunkalemle işaretleyiniz. İşaretinizi cevap yerinin dışına taşırmayınız. Tükenmez veya mürekkepli kalem kullanmayınız.
5. Değiştirmek istediğiniz bir cevabı yumuşak bir silgi ile, cevap kâğıdını örselemeden temizce siliniz ve doğru cevabınızı işaretlemeyi unutmayınız.
6. Cevap kâğıdınızı buruşturmayınız, katlamayınız ve üzerine gereksiz hiçbir işaret koymayınız.
7. Bu kitapçıkta her sorunun bir tek doğru cevabı vardır. Bir soru için birden çok cevap yeri işaretlenmişse o soru yanlış cevaplanmış sayılacaktır.
8. Cevaplarınız puanlanırken her doğru cevabınıza eşit puan verilecek, yanlış cevaplarınız dikkate alınmayacaktır. Bu nedenle kitapçıkta tüm sorular için size doğru gelen seçeneği işaretleyerek cevapsız soru bırakmamanız yararınıza olacaktır.
9. Kitapçığın sayfalarındaki boş yerleri müsvedde için kullanabilirsiniz.

Anadolu Üniversitesi tarafından hazırlanmış olan bu testlerin her hakkı saklıdır. Hangi amaçla olursa olsun, testlerin tamamının veya bir kısmının Anadolu Üniversitesi'nin yazılı izni olmadan kopya edilmesi, fotoğraflarının çekilmesi, herhangi bir yolla çoğaltılması, yayımlanması ya da kullanılması yasaktır. Bu yasağa uymayanlar gerekli cezai sorumluluğu ve testlerin hazırlanmasındaki mali külfeti peşinen kabullenmiş sayılır.

DİN KÜLTÜRÜ VE AHLAK BİLGİSİ 6

B

2012 3D 0106-B

1. "Ey insanlar, Rabb'iniz birdir, babanız da birdir. Hepiniz, Adem'in çocuklarısınız" hadisiyle aşağıdakilerden hangisi ifade edilmiştir?

A) Kur'an'ın herkesi barışa çağırdığı
B) Kimsenin takva dışında bir başkasına üstünlüğünün olmadığı
C) İslam dininin toplumda insanların barış ve huzur içinde yaşamasını amaçladığı
D) Tüm insanların eşit haklara sahip olduğu
E) İslam sözcüğünün, barış, güven ve huzur anlamına geldiği

2. Bireylerde güzellik hissi uyandıran, güzel duygu ve anlamlar içeren, sanatla ilgili değer yargısına ne ad verilir?

A) Mizanpaj
B) Simetri
C) Denge
D) Estetik
E) Altın Oran

3. Camideki hizmetlerin yürütülmesinden sorumlu kişidir. Vakit, cenaze, bayram, cuma gibi namazların cemaatle kılınması, halkı dini yönden bilgilendirme gibi faaliyetleri yürütür. Dini gün ve gecelerde mevlit okunmasını sağlar.

Yukarıda anlatılan din görevlisi aşağıdakilerden hangisidir?

A) Kur'an kursu öğreticisi
B) Müezzin
C) İmam Hatip
D) Vaiz
E) Müftü

4. Aşağıdakilerden hangisi Din İşleri Yüksek Kurulu'nun görevlerinden biri değildir?

A) Din ile ilgili sorulara yanıtlar hazırlamak
B) Dini eserlerin yazım ve çevirilerini yaptırarak halkın ilgisine sunmak
C) Hutbe ve vaazların içerik ve esaslarını tespit etmek
D) Din işleri ile ilgili konularda inceleme ve araştırmalarda bulunmak
E) İl ve ilçelerde görevlendirilecek imam-hatip ve müezzinleri atamak

5. Peygamberimizin hayatını ve mücadelesini anlatan kitaplara ne ad verilir?

A) Siyer
B) Tefsir
C) Hadis kitapları
D) İlmihal
E) Fıkıh

6. Kur'an kurslarının ve eğitim merkezlerinin açılış, eğitim, öğretim, yönetim ve denetim işlerini yürüten birim aşağıdakilerden hangisidir?

A) Mushafları İnceleme Kurulu
B) Hac Dairesi
C) Tasfiye İşleri Genel Müdürlüğü
D) Din İşleri Yüksek Kurulu
E) Din Hizmetleri Dairesi

7. Aşağıdakilerden hangisi barış durumunun yarattığı sonuçlardan biri değildir?

A) İnsanların mutlu, huzurlu olması
B) Bireylerin ruhsal hayatlarının çöküntüye uğraması
C) Kültürel değerlerin korunması ve gelişmesi
D) Bireylerin birbirine güven duyması
E) Toplumların gelişip, kalkınması

8. Aşağıdakilerden hangisi Kur'an-ı Kerim'in bir adıdır?

A) Melik
B) Zahir
C) Kelamullah
D) Samed
E) Cebbar

9. "Yurtta barış, dünyada barış. Biz kimsenin düşmanı değiliz, ama insanlığın düşmanı olanların düşmanıyız." sözleri kime aittir?

A) Hz. Muhammed
B) Mehmet Akif Ersoy
C) Hz. Ali
D) Mustafa Kemal Atatürk
E) İsmet İnönü

10. Hz. Muhammed'in doğumunu ve örnek kişiliğini anlatan edebi eserlere ne ad verilir?

A) Tevhit
B) İlahi
C) Naat
D) Kaside
E) Mevlit

B

2012 3D 0106-B

11. Hz. Muhammed'in imzaladığı, toplumda ortak hareket etme, birlikte barış içinde yaşama, toplumların hukuki ve sosyal statülerini kabul etme, inanç ve ibadet hürriyeti sağlama konularını içeren sözleşme aşağıdakilerden hangisidir?

- A) Mekkenin Fethi Antlaşması
- B) Medine Sözleşmesi
- C) Uhud Sözleşmesi
- D) Taif Sözleşmesi
- E) Hudeybiye Antlaşması

12. İslam dininin "barış" kavramına bakışı ile ilgili aşağıdaki ifadelerden hangisi yanlıştır?

- A) İslam dini toplumları din konusunda bilgilendirir.
- B) İslam dini barış ve huzur dinidir.
- C) İslam dini toplumda insanların barış ve huzur içinde yaşamasını amaçlar.
- D) İslam dini, toplumda, kavga ve geçimsizlikleri yasaklar.
- E) İslam dini, insanların birbirleriyle güzel ilişkiler kurmalarını öğretir.

13. 1920 yılında Ankara'da Meclis hükümetince din hizmetlerini yürütmek amacıyla kurulan Bakanlığın adı nedir?

- A) Bab-ı Defter
- B) Tevhid-i Tedrisat
- C) Hazine-i Amire
- D) Şer'iye ve Evkaf Vekaleti
- E) Sadaret Kethüdalığı

14. Hoca Ahmet Yesevi, Yunus Emre, Mevlana, Hacı Bektaş-ı Veli gibi kişilerle başlayan ve günümüze kadar devam eden edebiyat türü aşağıdakilerden hangisidir?

- A) Tezhip
- B) Kaside
- C) Tasavvuf
- D) Tevhit
- E) Naat

15. Aşağıdakilerden hangisi ünlü Türk müzehhiplerinden biridir?

- A) Kara Memiş
- B) Levni
- C) Baba Nakkaş
- D) Mustafa Rakım
- E) Şeyh Hamdullah

16. İnsanlığın babası olarak ta nitelenen ilk peygamber aşağıdakilerden hangisidir?

- A) Hz. İsa
- B) Hz. Ömer
- C) Hz. Ali
- D) Hz. Muhammed
- E) Hz. Adem

17. Allah'a övgüyü dile getirmek ve ona dua etmek için söylenen edebi eserlere ne ad verilir?

- A) Mevlit
- B) İlâhi
- C) Münacat
- D) Naat
- E) Kaside

18. Aşağıdakilerden hangisi İslam mimarisinin önem verdiği unsurlardan biri değildir?

- A) Gelenekçilik
- B) Kullanışlılık
- C) Dayanıklılık
- D) Estetik
- E) İhtişam

19. Diyanet İşleri Başkanlığı ile ilgili aşağıdaki ifadelerden hangisi yanlıştır?

- A) İslam dini ile ilgili hizmetleri yürütmekle görevli kamu kuruluşudur.
- B) Diyanet İşleri Başkanlığı, her türlü siyasi görüş ve düşünceden uzak durmaktadır.
- C) Diyanet İşleri Başkanlığı özel idare içinde yer alır.
- D) Diyanet, yurt içinde ve dışında din hizmeti sunan özel ve resmi kuruluşların faaliyetlerini değerlendirir.
- E) Kur'an kursları ve camiler aracılığıyla dini konularda toplumu gerekli ve doğru bilgilerle aydınlatma görevini üstlenir.

20. Barış ile ilgili aşağıdaki ifadelerden hangisi yanlıştır?

- A) Dünyada birlikte yaşamın anahtarı barıştır.
- B) Barış herkes için gerekli bir durumdur.
- C) Toplumsal barış, toplumda huzur, güven ve mutluluk sağlar.
- D) Barışın dini, dili, ırkı, rengi, cinsiyeti, kültür ve medeniyeti vardır.
- E) Bireyler arasındaki barış, toplumsal barışı doğurur.

DİN KÜLTÜRÜ VE AHLAK BİLGİSİ 8

B

2012 3D 0106-B

1. Aşağıdakilerden hangisi Atatürk'ün din ile ilgili görüşlerinden biri değildir?

- A) Din, Allah ile kul arasındaki bağılıktır.
- B) Din gerçek manada anlaşılması gereken bir durumdur.
- C) Din, devlet işlerinde etkili bir durumdur.
- D) Dinsiz milletlerin devamına imkan yoktur.
- E) Din lüzumlu bir müessesedir.

2. Yahudilik Hz. Musa'ya hangi yüzyılda gelmiştir?

- A) MÖ XV
- B) MÖ XIV
- C) MÖ XIII
- D) MÖ XII
- E) MÖ XI

3. Aşağıdakilerden hangisi Hinduizmin amaçlarından biri değildir?

- A) Kurtuluş
- B) Mutluluk
- C) Dürüstlük
- D) Belirli ibadet şekli
- E) Helal kazanç

4. Hinduizmde sebep- sonuç kanunu olan, kişinin kaderini belirleyen iş ve amellere ne ad verilmektedir?

- A) Şİva
- B) Tenasüh
- C) Yoga
- D) Reenkamasyon
- E) Karma

5. Hinduizm'de beden ile ruh, duygu ile sezgi arasında bir bütünlük ve uyum sağlamak, doğaüstü güçlerle temas kurmak amacıyla yapılan dini egzersizlere ne ad verilir?

- A) Karma
- B) Yoga
- C) Samaveda
- D) Tenasüh
- E) Reenkamasyon

6. Hinduizmde koruyucu olarak bilinen tanrı aşağıdakilerden hangisidir?

- A) Sudra
- B) Şİva
- C) Rigveda
- D) Vişnu
- E) Brahma

7. Tüccar, esnaf ve çiftçi sınıfı olarak bilinen Kast sistemi sınıfı aşağıdakilerden hangisidir?

- A) Vaisyalar
- B) Konsüller
- C) Brahmanlar
- D) Sudralar
- E) Kşatriyalar

8. Aşağıdakilerden hangisi İslamiyet'in önemli özelliklerinden biri değildir?

- A) İslam dininde herkes eşittir.
- B) Tüm insanlar doğuştan günahsızdırlar.
- C) İslam'da ruhbanlık değerlidir.
- D) Dinin kaynağı Kur'an ve Hadis-i Şeriftir.
- E) İslam'da Mesih anlayışı yoktur.

9. Günümüzde yaşayan dinlerin nüfus bakımından en büyük olanı aşağıdakilerden hangisidir?

- A) Budizm
- B) Hristiyanlık
- C) İslamiyet
- D) Hinduizm
- E) Musevilik

10. Hükümdar sülalesi ve askerler sınıfı olarak bilinen Kast sistemi sınıfı aşağıdakilerden hangisidir?

- A) Brahmanlar
- B) Konsüller
- C) Sudralar
- D) Vaisyalar
- E) Kşatriyalar

B

2012 3D 0106-B

11. Hintlilerin kutsal kabul ettikleri nehir aşağıdakilerden hangisidir?

- A) Missisipi
- B) Nil
- C) Fırat
- D) Ganj
- E) Dicle

12. Hristiyan inancına göre Hz. İsa'nın yeryüzündeki bedenini temsil ettiğine inanılan şey aşağıdakilerden hangisidir?

- A) İncil
- B) Çarmıh
- C) Vaftiz
- D) Luka
- E) Kilise

13. Rahipler ve aydınlar sınıfı olarak bilinen Kast sistemi sınıfı aşağıdakilerden hangisidir?

- A) Brahmanlar
- B) Kşatriyalar
- C) Vaisyalar
- D) Sudralar
- E) Konsüller

14. Bağışlama için aşağıdakilerden hangisi yanlıştır?

- A) Bireysel ve toplumsal hoşgörünün temelidir.
- B) Bireyi ruhsal açıdan arındırır.
- C) Bireyi zayıf kişilikli hale getirir.
- D) İnsanı yüceltir.
- E) Bireyi hatalardan döndürür.

15. Aşağıdakilerden hangisi sözlükte geçen İslam'ın anlamlarından biri değildir?

- A) Boyun eğmek
- B) Hüküm sürmek
- C) Esenlikte ve barışta olmak
- D) Teslim olmak
- E) İtaat etmek

16. Hinduizmde sebep- sonuç kanunu olan, kişinin kaderini belirleyen iş ve amellere ne ad verilmektedir?

- A) Reenkamasyon
- B) Şİva
- C) Tenasüh
- D) Karma
- E) Yoga

17. İşçi ve sanatkarlar sınıfı olarak bilinen Kast sistemi sınıfı aşağıdakilerden hangisidir?

- A) Brahmanlar
- B) Sudralar
- C) Vaisyalar
- D) Kşatriyalar
- E) Konsüller

18. İslamiyet'in özünü oluşturan inanç aşağıdakilerden hangisidir?

- A) Namaz
- B) Doğruluk
- C) Tevhit
- D) Oruç
- E) Kur'an-ı Kerim

19. Aşağıdakilerden hangisi Tevhid-i Tedrisat kanunu ile oluşan durumlardan biri değildir?

- A) Kur'an kurslarının yaygınlaştırılması
- B) Medreselerin kapatılması
- C) Tüm okulların Maarif Vekaletine bağlanması
- D) İlahiyat Fakültelerinin kurulması
- E) İmamlık ve hatiplik işleri için ayrı okulların kurulması

20. Hz. İsa'nın ölmekten önce havarileri ile yediği son akşam yemeğini anma ayinine ne ad verilir?

- A) Vaftiz
- B) Şölen
- C) Teslis
- D) Yuhanna
- E) Evharistiya

TARİH 2

B

2012 3D 0106-B

1. Aşağıdakilerden hangisi Türk-İslam devletlerinde ülkenin bir bölgesini idare eden hanedan üyelerine verilen addır?

- A) Atabey
- B) Amid
- C) Emir-i alem
- D) Melik
- E) Hacıp

2. Aşağıdakilerden hangisi sonucunda Türklerde Anadolu'yu yurt edinme düşüncesi hakim olmuştur?

- A) Malazgirt Zaferi
- B) Çaldıran Zaferi
- C) Otlukbeli Savaşı
- D) Eretna Devletinin kurulması
- E) Köseadağ yenilgisi

3. Hz. Muhammed'in (s.a.v.) davetini kabul edip ilk Müslüman olan kişi aşağıdakilerden hangisidir?

- A) Hz. Ebubekir
- B) Hz. Zeyd
- C) Hz. Ömer
- D) Hz. Hatice
- E) Hz. Ali

4. İlk İslam parası hangi devlet tarafından basılmıştır?

- A) Memlükler
- B) Sasaniler
- C) Endülüslü Emevîler
- D) Abbasiler
- E) Emevîler

5. İslamiyetin doğuşu sırasında İran'da merkezi Medain şehri olan devlet aşağıdakilerden hangisidir?

- A) Göktürk Devleti
- B) Endülüslü Emevî Devleti
- C) Sasaniler Devleti
- D) Tedmür Devleti
- E) Main Devleti

6. Kudüs kralını Hittin Savaşında yenerek Kudüs'ü ele geçiren aşağıdakilerden hangisidir?

- A) Selâhaddin Eyyûbi
- B) Aybek
- C) Sebük Tekin
- D) Hüsrev Melik
- E) Alparslan

7. Bizans İmparatorluğu'nun en parlak devri aşağıdakilerden hangisinin zamanındadır?

- A) Sezar
- B) Jüstinyen
- C) Diocletionus
- D) Heraklius
- E) Oktavianus

8. Türk - İslam devletlerinde, vergi gelirlerinin sultana bırakıldığı topraklara ne ad verilir?

- A) Mülk
- B) İktâ
- C) Vakıf
- D) Haraci
- E) Has

9. İslâm Medeniyeti'nde "halifeliğin" babadan oğula geçen bir saltanat haline gelmesi ilk kez hangi dönemde başlamıştır?

- A) Emevîler
- B) Osmanlılar
- C) Abbasîler
- D) Dört Halife
- E) Selçuklular

10. Aşağıdakilerden hangisi 1196 yılında Moğol kabilelerini birleştirerek, Moğol Devleti'ni kurmuştur?

- A) Mönke
- B) Timur
- C) Hülagü
- D) Cengiz Han
- E) Kubilay

11. Aşağıdakilerden hangisi Haçlı seferlerinin nedenlerinden biri değildir?

- A) Hristiyanların, Müslümanların elinde olan Kudüs'ü ele geçirmek istemesi
- B) Avrupa'daki şövalye ve soyluların etkinliklerini artırmak istemesi
- C) Bizans'ın Türklere karşı Avrupa'dan yardım istemesi
- D) Doğu ülkelerindeki zenginliğin ele geçirilmek istenmesi
- E) Türkiye Selçuklu Devleti'nin Avrupa'yı tehdit edecek kadar güçlenmesi

B

2012 3D 0106-B

12. Aşağıdakilerden hangisi, Selçuklu Devleti kurulmadan önce Gazneliler ve Karahanlıların baskısı sonucu yeni bir yurt için keşif amaçlı seferlerle Anadolu'ya gelmiştir?

- A) İnal Bey
- B) Kurti Bey
- C) Artuk Bey
- D) Çağrı Bey
- E) Mehmed Bey

13. XIII-XIX. yüzyıl dönemine ait dünyanın en güzel eserlerinden biri olarak kabul edilen Babür Hükümdarı Şah Cihan'ın karısı için yaptırdığı mimari eser aşağıdakilerden hangisidir?

- A) Şah Camii
- B) Tac Mahal
- C) Heşt Behişt Sarayı
- D) Nakş-ı Cihan Meydanı
- E) Lütfullah Camii

14. Aşağıdakilerden hangisi Oğuz Türkleri arasında İslamiyet'in hızla yayılmasının nedenlerinden biri değildir?

- A) İslam dini ile eski Türk inanç sistemleri arasında ortak yanların bulunması
- B) Türklerin güzel ahlaka önem vermesinin, İslamın emirleriyle uyumu
- C) Türklerin fütihat felsefesi ile İslamın cihat düşüncesi arasında farkların olması
- D) Türklerin Gök Tanrı inancıyla, İslamiyetteki tek bir Allah inancının uyumu
- E) Türklerin temizliğe önem vermesi, İslamın bunu emretmesi

15. 1514 yılında yapılan Çaldıran Savaşı kimler arasında yapılmıştır?

- A) Yavuz Sultan Selim - Şah İsmail
- B) Muhammed Şeybani - Şah İsmail
- C) Yıldırım Bayezit - Timur
- D) Cengiz Han - Timur
- E) Nadir Şah - Cengiz Han

16. Aşağıdakilerden hangisi Akkoyunlu hükümdarı Uzun Hasan'ın ölümünden sonra Şah İsmail tarafından İran'da kurulan devlettir?

- A) Altın Orda Devleti
- B) Muzafferoğulları Devleti
- C) Şeybani Devleti
- D) Timurlular Devleti
- E) Safevi Devleti

17. Aşağıdakilerden hangisi, Selçuklularda yolların emniyetini sağlamak, ticaret hayatını canlandırmak ve insanların yolculuğunu kolaylaştırmak anlayışıyla yapılan yapılardır?

- A) Kümbet
- B) Kervansaray
- C) Medrese
- D) Darüşşifa
- E) Külliye

18. Aşağıdakilerden hangisi Moğollarda sosyal ve iktisadi hayatın özelliklerinden biri değildir?

- A) İktisadi hayatta hayvancılık ve avcılığın önemli bir yerinin olması
- B) Kağıt para basmaları ve çek kullanmaları
- C) Ticaret ve hayvancılığa büyük önem verilmesine rağmen tarımda geri kalınması
- D) Büyük ölçüde göçebeliliğe bağlı olması
- E) İlk zamanlar anaerik olan aile yapısının sonradan ataerik sisteme dönmesi

19. Yağma, Karluk ve Çiğ boylarının konuştuğu lehçelerin kaynaşmasından ortaya çıkan Karahanlı Türkçesine ne ad verilir?

- A) Azerice
- B) Hakaniye
- C) Çağatayca
- D) Uygurca
- E) Yakutça

20. Aşağıdakilerden hangisi Türkiye Selçuklularının yıkılışından sonra Anadolu'da kurulan beyliklerden biri değildir?

- A) Germiyanogulları
- B) Candaroğulları
- C) Çubukoğulları
- D) Karesioğulları
- E) Menteşoğulları

COĞRAFYA 4

B

2012 3D 0106-B

1. Aşağıdakilerden hangisi azonal topraklardan biridir?

- A) Regosoller
- B) Terra-Rossa
- C) Çernezyom
- D) Vertizoller
- E) Lateritler

2. Yer şekillerinin engebeli, eğimin fazla olduğu yerlerde hidroelektrik enerji potansiyeli yüksek olur.

Bu bilgilere göre aşağıdaki akarsularımızdan hangisinin hidroelektrik enerji potansiyeli daha yüksektir?

- A) Susurluk
- B) Aksu
- C) Fırat
- D) Sakarya
- E) Gediz

3. Aşağıdakilerden hangisi ormanlardan elde edilen asıl ürünlerden biridir?

- A) Reçine
- B) Kontraplak
- C) İhlamur
- D) Çam kozalağı
- E) Keçi boynuzu

4. Aşağıdakilerden hangisi garig bitkilerinden biridir?

- A) Yabani zeytin
- B) Mersin
- C) Sandal
- D) Keçi boynuzu
- E) Lavanta çiçeği

5. Akdeniz ikliminin karakteristik bitki topluluğu olup yaz ve kış yapraklarını dökmeyen, kısa boylu bodur çalılıklar aşağıdakilerden hangisidir?

- A) Bozkır
- B) Sedir
- C) Tundra
- D) Maki
- E) Savan

6. Özellikle Batı Karadeniz' de yaygın olan, birkaç mahallenin tek muhtarlık olarak birleştiği kır yerleşmelerine ne ad verilir?

- A) Divan
- B) Köy
- C) Kom
- D) Ağıl
- E) Mezra

7. Aşağıdakilerden hangisi ülkemizde alüvyal toprakların görüldüğü alanlardan biri değildir?

- A) Bafra ovası
- B) Ağrı yöresi
- C) Adapazarı ovası
- D) Silifke ovası
- E) Çukurova

8. Aşağıdakilerden hangisi Eskişehir ilinin özelliklerinden biri değildir?

- A) Tarım alanlarına sahip olması
- B) İki üniversiteye sahip olması
- C) Kış turizmine hizmet etmesi
- D) Büyükşehir olması
- E) Ulaşım yolları üzerinde olması

9. Yurdumuzda bir yerleşim alanının nüfusunun artmasında aşağıdakilerden hangisinin etkisi daha fazladır?

- A) Maden-turizm
- B) Turizm-hayvancılık
- C) Tarım-hayvancılık
- D) Tarım-turizm
- E) Ticaret-sanayi

10. Türkiye' de toprak tipleri ve dağılışı üzerinde aşağıdakilerden hangisi etkili değildir?

- A) Heyelanlar
- B) Bitki örtüsü
- C) İklim
- D) Ana kaya
- E) Yer şekilleri

B

2012 3D 0106-B

11. Aşağıdaki bölgelerimizin hangisinde ormanlar daha geniş yer kaplamaktadır?

- A) İç Batı Anadolu
- B) Erzurum çevresi
- C) Marmara bölgesi
- D) Doğu Karadeniz
- E) Konya çevresi

12. Hindistan'a deniz yolu ile ilk ulaşan denizci aşağıdakilerden hangisidir?

- A) Ameriko Vespuçi
- B) Vasko dö Gama
- C) Kolomb
- D) Bartelmi Diyaz
- E) Macellan

13. Aşağıdakilerden hangisi Hakkari ilinin nüfusunu olumsuz etkileyen faktörlerden biri değildir?

- A) Tarım alanının dar olması
- B) İklim koşullarının olumsuz olması
- C) Ulaşımın iç bölgelere geçitlerle bağlantılı olması
- D) Ürün çeşidinin az olması
- E) Yükseltinin fazla olması

14. Daima batıya giderek aynı noktaya ulaşan ve böylece dünyanın yuvarlak olduğunu kanıtlayan denizci aşağıdakilerden hangisidir?

- A) Kolomb
- B) Ameriko Vespuçi
- C) Bartelmi Diyaz
- D) Vasko dö Gama
- E) Macellan

15. Aşağıdakilerden hangisi komların oluşumunda en etkili faktördür?

- A) Tarım
- B) Aileden ayrı yaşam isteği
- C) İklim
- D) Hayvancılık
- E) Aileler arasında toprak bölüşümü

16. Cumhuriyet dönemindeki ilk kapsamlı nüfus sayımı hangi yıl yapılmıştır?

- A) 1923
- B) 1927
- C) 1937
- D) 1945
- E) 1950

17. Aşağıdakilerden hangisinin bulunması ile kitap ve gazetelerin geniş kitlelere ulaşması ve toplumda kültür ve eğitimin yaygınlaşması sağlanmıştır?

- A) Matbaa
- B) Telgraf
- C) Telefon
- D) Teleks
- E) Televizyon

18. Bir ülkenin kırsal alanlarında ve kentlerinde bulunan nüfus miktarları, o ülkenin aşağıdaki özelliklerinden hangisini gösterir?

- A) Siyasi durumunu
- B) Kültürel yapısını
- C) Geleneklerini
- D) Coğrafi yapısını
- E) Ekonomik ve sosyal yapısını

19. Çin'den başlayan ve Uzak Doğu'nun ipek, kürk, baharat gibi ürünlerini batıya taşıyan tarihi yol aşağıdakilerden hangisidir?

- A) Kral yolu
- B) Baharat yolu
- C) İpek yolu
- D) Süveyş kanalı
- E) Basra körfezi

20. Aşağıdakilerden hangisi Türkiye' de 1927-2000 yılları arasında nüfustaki değişim özelliklerinden biri değildir?

- A) Nüfusun eğitim düzeyinin artması
- B) Nüfus artışının hızlanması
- C) Kentsel nüfusun giderek artması
- D) Kadın nüfusunun, erkek nüfusundan fazla olması
- E) Ortalama yaşam süresinin uzaması

MATEMATİK 2

B

2012 3D 0106-B

1. Uzun kenarı 42 m, kısa kenarı 36 m olan dikdörtgen şeklindeki bir bahçenin etrafına, köşelere de dikilmek şartıyla mümkün olan en geniş ve eşit aralıkta ağaçlar dikilecektir.

Bu iş için gerekli olan ağaç sayısı kaçtır?

- A) 24
- B) 26
- C) 28
- D) 32
- E) 34

2. $\frac{4}{a+3}$ işleminin sonucunun bir tam sayı olabilmesi için a tam sayısının alabileceği değerler toplamı kaçtır?

- A) -19
- B) -18
- C) -12
- D) 6
- E) 8

3. Farkları 5, toplamları 17 olan iki doğal sayının çarpımı kaçtır?

- A) 45
- B) 56
- C) 60
- D) 66
- E) 85

4. $Z/7 = \{ \bar{0}, \bar{1}, \bar{2}, \bar{3}, \bar{4}, \bar{5}, \bar{6} \}$ kümesinde bir f fonksiyonu, $f(x) = (\bar{4} \odot x) \oplus \bar{6}$ biçiminde tanımlanıyor.

Buna göre, $f(\bar{5})$ in denklik sınıfı kaçtır?

- A) $\bar{5}$
- B) $\bar{4}$
- C) $\bar{3}$
- D) $\bar{2}$
- E) $\bar{1}$

5. $a^2 \cdot b < 0$
 $b^3 \cdot c > 0$
 $a \cdot b \cdot c^2 < 0$

olduğuna göre, a, b, c nin işaretleri sırasıyla aşağıdakilerden hangisinde verilmiştir?

- A) -, +, -
- B) -, +, +
- C) +, -, -
- D) +, -, +
- E) +, +, -

6. $24 - 12 : (1 + 3) - 10$ işleminin sonucu kaçtır?

- A) -7
- B) -2
- C) 6
- D) 11
- E) 22

B

2012 3D 0106-B

7. Bir araba A şehrinden B şehrine sabit hızla giderek 5 saatte varmıştır. Bu araba hızını 14 km/h artırırsa aynı yolu 4 saatte alacaktır. Buna göre, arabanın ilk hızı kaç km / h tir?

A) 85
B) 74
C) 68
D) 56
E) 40

8. Bir doktor 4 günde bir nöbete kalıyor. İlk nöbetini Salı günü tutan doktor, 23. nöbetini hangi gün tutar?

A) Cumartesi
B) Cuma
C) Perşembe
D) Çarşamba
E) Salı

9. $Z/5$ te $x^2 + 1 \equiv 0$ denkleminin çözüm kümesi aşağıdakilerden hangisidir?

A) {1}
B) {2}
C) {0,1}
D) {2, 3}
E) {1, 2, 4}

10. $5x - 2(3x-1) + 7(x-4) = 16$ denkleminin R deki çözüm kümesi aşağıdakilerden hangisidir?

A) 6
B) 7
C) 8
D) 9
E) 10

11. $\frac{4}{0,4} + \frac{2,4}{0,3} - \frac{1,75}{0,5}$ işleminin sonucu kaçtır?

A) $\frac{45}{2}$
B) 21
C) $\frac{29}{2}$
D) 13
E) $\frac{9}{4}$

12. Parasının önce $\frac{1}{4}$ ünü daha sonra da kalan

parasının $\frac{2}{5}$ ini harcayan Ayşe'nin cebinde

99 TL kaldığına göre, Ayşe'nin harcamadan önce kaç lirası vardı?

A) 140
B) 180
C) 220
D) 250
E) 270

13. $1 + \frac{1 + \frac{1}{2}}{1 + \frac{1}{2}}$ işleminin sonucu kaçtır?

A) $\frac{1}{8}$
B) $\frac{1}{2}$
C) $\frac{2}{3}$
D) 4
E) 9

2012 3D 0106-B

14. $x = -1$, $y = 2$ olmak üzere, $\frac{x^y - y^x}{x^y \cdot y^x}$ ifadesinin

değeri kaçtır?

- A) -2
B) $-\frac{1}{2}$
C) $\frac{1}{2}$
D) 1
E) 2

15. Halil bir işi x günde, Emrah ise aynı işi $\frac{x}{3}$ günde bitirebilmektedir.

İkisi birlikte aynı işi 7 günde bitirebildiklerine göre, x kaçtır?

- A) 28
B) 26
C) 24
D) 22
E) 20

16. $\sqrt{15 - \sqrt{32 + \sqrt{20 - \sqrt{11 + \sqrt{25}}}}}$ işleminin sonucu aşağıdakilerden hangisidir?

- A) $\sqrt{5}$
B) $\sqrt{2}$
C) 2
D) 3
E) 4

17. $a < b < 0 < c$ olduğuna göre, $|a - b| - |c - b| - |a|$ ifadesi aşağıdakilerden hangisine eşittir?

- A) $-2a - c$
B) $-c$
C) $2a$
D) $2b$
E) $2b - c$

18. $\frac{3^2 + 3^3 + 3^5}{3^4 + 3^5 + 3^7}$ işleminin sonucu kaçtır?

- A) $\frac{1}{9}$
B) $\frac{1}{3}$
C) $\frac{1}{2}$
D) 1
E) 3

19. $|x - 4y|$ ifadesinin en küçük değerini alması için $\frac{3x - 2y}{x + y}$ nin değeri kaç olmalıdır?

- A) $\frac{2}{5}$
B) $\frac{1}{2}$
C) 1
D) 2
E) 4

20. $\frac{15\sqrt{2} \cdot \sqrt{5} - 7\sqrt{10}}{\sqrt{20} + 2\sqrt{5}}$ işleminin sonucu kaçtır?

- A) $\sqrt{2}$
B) $2\sqrt{2}$
C) $5\sqrt{2}$
D) $2\sqrt{5}$
E) $3\sqrt{5}$

2012 3D 0106-B

Bu testin cevaplarını, cevap anahtarında YABANCI DİL 3 sütununa işaretleyiniz.

1. Die besten Wissenschaftler bekommen den

Welches Wort paßt in die obige Lücke?

Cümlede boş bırakılan yeri aşağıdakilerden hangisi doğru şekilde tamamlar?

- A) Meister
- B) Nobelpreis
- C) Kasten
- D) Geld
- E) Buch

2. Brille kann ich nicht lesen.

Welches Wort paßt in die obige Lücke?

Cümlede boş bırakılan yeri aşağıdakilerden hangisi doğru şekilde tamamlar?

- A) Ohne
- B) Auf
- C) Aber
- D) Dann
- E) Und

3. Mayıs ayında ne yapacaksın?

Wie lautet der obige Satz auf deutsch?

Verilen cümlelerin Almanca'sı aşağıdakilerden hangisidir?

- A) Was wolltest du im Mai machen?
- B) Was machst du im Mai?
- C) Was hast du im Mai gemacht?
- D) Hast du für Mai irgendwelche Pläne?
- E) Hast du im Mai Zeit für Reisen?

4. Ich habe meine Brille Telefon gelegt, als ich mit Peter telefonierte.

Welche Wörter passen in die obigen Lücken?

Cümlede boş bırakılan yerleri aşağıdakilerden hangileri doğru şekilde tamamlar?

- A) zu das
- B) unter den
- C) in den
- D) neben das
- E) am das

5. Wo kann man sitzen?

Welche Antwort paßt zur obigen Frage?

Verilen sorunun cevabı aşağıdakilerden hangisidir?

- A) Auf der Lampe.
- B) Im Kühlschrank.
- C) In dem Schrank.
- D) Auf dem Fernseher.
- E) Auf dem Stuhl.

6. A: Was haben Sie denn da?
B: Das ist doch Lerngerät.

Welches ergänzt den obigen Dialog?

Verilen karşılıklı konuşmayı aşağıdakilerden hangisi tamamlar?

- A) mein neues
- B) mein neuer
- C) meine neue
- D) meine neues
- E) meiner neuen

7. Geben Sie mir bitte ein Tuch zum Händetrocknen.

Welches Wort paßt in die obige Lücke?

Cümlede boş bırakılan yeri aşağıdakilerden hangisi doğru şekilde tamamlar?

- A) kleines
- B) kleinen
- C) klein
- D) kleine
- E) kleiner

2012 3D 0106-B

8. Frau Müller geht

Welches ergänzt nicht die Lücke im obigen Satz?

Verilen cümleyi aşağıdakilerden hangisi tamamlamaz?

- A) nach Köln.
- B) ins Büro.
- C) in die Lampe.
- D) zum Deutschkurs.
- E) in das Schlafzimmer.

9. Was bedeutet "değiştirmek" auf deutsch?

"değiştirmek" sözcüğünün Almancası aşağıdakilerden hangisidir?

- A) üben
- B) läuten
- C) verstehen
- D) überlegen
- E) ändern

10. Ich bin heute bis um 21.00 Uhr im Büro.

Wie lautet der obige Satz im Futur?

Verilen cümlelerin gelecek zaman şekli aşağıdakilerden hangisidir?

- A) Ich hätte heute bis um 21. 00 Uhr im Büro bleiben können.
- B) Ich werde heute bis um 21.00 Uhr im Büro sein.
- C) Ich habe heute bis um 21. 00 Uhr im Büro gearbeitet.
- D) Ich würde heute bis um 21. 00 Uhr im Büro bleiben.
- E) Ich hatte heute bis um 21. 00 Uhr im Büro zu tun.

11. Sie stand und stellte sich vor Fenster.

Welche Wörter passen in die obigen Lücken?

Cümlede boş bırakılan yerleri aşağıdakilerden hangileri doğru şekilde tamamlar?

- A) von / der
- B) an / dem
- C) aus / dem
- D) auf / das
- E) ab / das

12. Helga steht der Küche Herd und kocht.

Welche Wörter passen in die obigen Lücken?

Cümlede boş bırakılan yerleri aşağıdakilerden hangileri doğru şekilde tamamlar?

- A) auf / an
- B) im / auf
- C) in / an der
- D) an / vor
- E) in / am

13. kalt / heiß / rot / warm / kühl

Welches Wort paßt nicht zu den anderen in der obigen Wortgruppe?

Verilen sözcük grubuna uymayan aşağıdakilerden hangisidir?

- A) warm
- B) heiß
- C) rot
- D) kühl
- E) kalt

14. Sie müssen zuerst Knopf drücken.

Welches paßt nicht in die obige Lücke?

Cümlede boş bırakılan yeri aşağıdakilerden hangisi doğru şekilde tamamlamaz?

- A) den verschieden
- B) den kleinen
- C) auf den linken
- D) den roten
- E) auf den großen

15. Wie lautet das Adjektiv vom Wort "das Kind"?

"das Kind" sözcüğünün sıfat hali aşağıdakilerden hangisidir?

- A) kindig
- B) kindung
- C) kindheit
- D) kindlich
- E) kindlein

2012 3D 0106-B

16. Entschuldige, daß ich erst jetzt antworte, aber ich hatte seit zwei Wochen viel Arbeit.

Welches hat die gleiche Bedeutung mit dem obigen Satz?

Verilen cümle ile aynı anlamı taşıyan aşağıdakilerin hangisidir?

- A) Entschuldigung, falls ich nicht antworten kann, aber ich bin krank.
- B) Es tut mir wirklich leid aber ich bin seit Wochen krank und kann diese Arbeit nicht machen.
- C) Entschuldige, daß ich nicht früher geantwortet habe, aber ich hatte viel zu tun.
- D) Ich war seit zwei Wochen krank, deshalb konnte ich nicht kommen, es tut mir sehr leid.
- E) Weil ich mit der Erkrankung von meiner Mutter beschäftigt war, konnte ich nicht früher kommen. Entschuldigen Sie bitte.

17. In den Ferien bin ich mit meiner Familie in Amerika

Welches Wort paßt in die obige Lücke?

Cümlede boş bırakılan yeri aşağıdakilerden hangisi doğru şekilde tamamlar?

- A) bleiben
- B) gebleibten
- C) geblieben
- D) bleibten
- E) blieben

18. surfen / wandern / Ski laufen / lernen / schwimmen /

Welches Wort paßt nicht zu den anderen in der obigen Wortgruppe?

Verilen sözcük grubuna uymayan aşağıdakilerden hangisidir?

- A) Schwimmen
- B) lernen
- C) Ski laufen
- D) wandern
- E) surfen

19. A: Was passiert, wenn ich auf diesen Knopf hier?

B: Dann die rote Lampe.

Welche Wörter passen in die obigen Lücke im obigen Dialog?

Verilen karşılıklı konuşmada boş bırakılan yerleri aşağıdakilerden hangisi doğru şekilde tamamlar?

- A) stecke / machten
- B) wähle / leuchten
- C) leuchte / lemt
- D) mache / drückt
- E) drücke / leuchtet

20. Was ist ein Universalschlüssel?

Welche Antwort paßt zur obigen Frage?

Verilen sorunun cevabı aşağıdakilerden hangisidir?

- A) Ein Universalschlüssel beherrscht alle Sprachen.
- B) Damit kannst du deine Zigarette anzünden.
- C) Damit kann man laut sprechen.
- D) Ein Universalschlüssel macht alle Türen auf.
- E) Mit einem Universalschlüssel kann man fantastisch spielen.

FRANSIZCA 3

B

2012 3D 0106-B

**Bu testin cevaplarını, cevap anahtarında
YABANCI DİL 3 sütununa işaretleyiniz.**

1. Nos clients aiment beaucoup.

Choisissez le mot qui convient.

**Cümledeki boşluğu aşağıdakilerden hangisi
doğru şekilde tamamlar?**

- A) je
- B) nous
- C) eux
- D) chez
- E) il

2. - Tu attends longtemps?
- Oh, ça fait 20 minutes.

Choisissez le mot qui convient.

**Cümledeki boşluğu aşağıdakilerden hangisi
doğru şekilde tamamlar?**

- A) depuis
- B) quand
- C) combien
- D) combien de temps
- E) quand est-ce que

3. Il les droits des gens, il est avocat.

Choisissez le mot qui convient.

**Cümledeki boşluğu aşağıdakilerden hangisi
doğru şekilde tamamlar?**

- A) a
- B) défend
- C) fais
- D) peut
- E) entend

4. Les gaz d'échappement sont dangereux la santé.

Choisissez le mot qui convient.

**Cümledeki boşluğu aşağıdakilerden hangisi
doğru şekilde tamamlar?**

- A) qui
- B) que
- C) comme
- D) pour
- E) car

5. Comment est-ce que vas à l'école?

Choisissez le mot qui convient.

**Cümledeki boşluğu aşağıdakilerden hangisi
doğru şekilde tamamlar?**

- A) il
- B) je
- C) vous
- D) nous
- E) tu

6. faites / voulez / ce que / vous
I II III IV

Mettez dans le bon ordre.

**Yukarıdaki kelimelerin anlamlı ve kurallı bir
cümle oluşturan sırası aşağıdakilerin
hangisinde doğru olarak verilmiştir?**

- A) I, III, IV, II
- B) I, IV, III, II
- C) II, IV, I, III
- D) III, IV, I, II
- E) IV, III, I, II

7. Le voyage a été par nos amis.

Choisissez le mot qui convient.

**Cümledeki boşluğu aşağıdakilerden hangisi
doğru şekilde tamamlar?**

- A) organisé
- B) transporté
- C) écrit
- D) cassé
- E) grondé

B

2012 3D 0106-B

8. Ces étudiants sont-ils paresseux?

Choisissez la traduction qui convient.**Yukarıdaki cümlelerin Türkçe karşılığı aşağıdakilerden hangisidir?**

- A) Bu öğrenciler neden tembellik ediyorlar?
- B) Tembel öğrenciler hep başarısız mı olurlar?
- C) Bu öğrenciler tembel mi?
- D) Bu öğrenciler hep tembellik yapanlar mı?
- E) Tembel öğrenciler bunlar mı?

9. Gelecek hafta Paris'te olacağım.

Choisissez la traduction qui convient.**Yukarıdaki cümlelerin Fransızca karşılığı aşağıdakilerden hangisidir?**

- A) La semaine dernière, j'étais à Paris.
- B) La semaine dernière, je suis allé à Paris.
- C) La semaine prochaine, j'allais à Paris.
- D) La semaine prochaine, j'étais à Paris.
- E) La semaine prochaine, je serai à Paris.

10. Chaque matin, elle dit bonjour.

Choisissez le mot qui convient.**Cümledeki boşluğu aşağıdakilerden hangisi doğru şekilde tamamlar?**

- A) sans
- B) me
- C) tes
- D) pas
- E) notre

11. - Faut-il aller chez le médecin?
- Oui, il faut aller.

Choisissez le mot qui convient.**Yukarıdaki konuşmada boş bırakılan yeri aşağıdakilerden hangisi doğru şekilde tamamlar?**

- A) en
- B) à
- C) ni
- D) y
- E) lui

12. C'est cette maison que je veux acheter.

Choisissez la traduction qui convient.**Yukarıdaki cümlelerin Türkçe karşılığı aşağıdakilerden hangisidir?**

- A) Bu evi satın almak istiyorum.
- B) Satın almak için bu evi seçtim.
- C) Satın alacağım ev böyle olmalı.
- D) Bu evi satın almayı düşünüyorum.
- E) Satın almak istediğim ev bu.

13. Elle n'est ni grosse ni maigre.

Choisissez la traduction qui convient.**Yukarıdaki cümlelerin Türkçe karşılığı aşağıdakilerden hangisidir?**

- A) O, hem uzun hem de incedir.
- B) O, ne ince ne de şişmandır.
- C) O, ne şişman ne de zayıftır.
- D) O, şişman ama çirkin değildir.
- E) O, hem şişman hem sempatiktir.

14. C'est une méthode est vraiment très efficace.

Choisissez le mot qui convient.**Cümledeki boşluğu aşağıdakilerden hangisi doğru şekilde tamamlar?**

- A) qui
- B) que
- C) dès que
- D) lorsque
- E) depuis que

15. utilisez-vous cette machine?

Choisissez le mot qui convient.**Cümledeki boşluğu aşağıdakilerden hangisi doğru şekilde tamamlar?**

- A) Car
- B) Comme
- C) Depuis
- D) Depuis quand
- E) Puisque

2012 3D 0106-B

16. elle travaille, elle écoute de la musique classique.

Choisissez le mot qui convient.

Cümledeki boşluğu aşağıdakilerden hangisi doğru şekilde tamamlar?

- A) Heureux
- B) Comment
- C) Pendant qu'
- D) Mon
- E) Facile

17. Ce roman a été écrit par une jeune fille.

Choisissez la traduction qui convient.

Yukarıdaki cümlelerin Türkçe karşılığı aşağıdakilerden hangisidir?

- A) Bu romanın en önemli kahramanı bir genç kızdır.
- B) Bu romanda bir genç kızın öyküsü anlatılmaktadır.
- C) Bu roman, bir genç kız tarafından yazıldı.
- D) Bütün genç kızlar bu romanı okumalı.
- E) Bu roman, bir genç kızın yaşamından esinlenerek yazılmıştır.

18. Ils me demandent je travaille la nuit.

Choisissez le mot qui convient.

Cümledeki boşluğu aşağıdakilerden hangisi doğru şekilde tamamlar?

- A) ni
- B) si
- C) qui
- D) pas
- E) que

19. lui / vais / téléphoner / je
I II III IV

Mettez dans le bon ordre.

Yukarıdaki kelimelerin anlamlı ve kurallı bir cümle oluşturan sırası aşağıdakilerin hangisinde doğru olarak verilmiştir ?

- A) I, II, IV, III
- B) II, I, IV, III
- C) III, IV, II, I
- D) IV, I, III, II
- E) IV, II, I, III

20. A : - Quelqu'un soigne les malades?
B : - Non, ne soigne les malades.

Choisissez le mot qui convient.

Yukarıdaki konuşmada boş bırakılan yeri aşağıdakilerden hangisi doğru şekilde tamamlar?

- A) devant
- B) sans
- C) rien
- D) personne
- E) toujours

İNGİLİZCE 3

B

2012 3D 0106-B

**Bu testin cevaplarını, cevap anahtarında
YABANCI DİL 3 sütununa işaretleyiniz.**

1. Begüm.....the homework by tomorrow.

Which of the following completes the sentence above?

Aşağıdakilerden hangisi yukarıdaki cümleyi doğru olarak tamamlar?

- A) is finishing
- B) will have finished
- C) finished
- D) has finished
- E) finish

2. Ahmet can't ride a motorcycle. I.

Which of the following completes the sentence above?

Aşağıdakilerden hangisi yukarıdaki cümleyi doğru olarak tamamlar?

- A) Nor can
- B) So do
- C) Nor did
- D) Nor do
- E) Neither

3. I don't like getting up early. my brother.

Which of the following completes the sentence above?

Aşağıdakilerden hangisi yukarıdaki cümleyi doğru olarak tamamlar?

- A) So do
- B) Nor does
- C) Neither
- D) So does
- E) Nor do

4. I will be to İzmir this time tomorrow.

Which of the following completes the sentence above?

Aşağıdakilerden hangisi yukarıdaki cümleyi doğru olarak tamamlar?

- A) has gone
- B) go
- C) was going
- D) going
- E) gone

5. I can't make a pizza. Nurcan can't make a pizza, either. Neither Nurcan nor Imake a pizza.

Which of the following completes the sentence above?

Aşağıdakilerden hangisi yukarıdaki cümleyi doğru olarak tamamlar?

- A) will
- B) don't
- C) must
- D) have
- E) can

6. Ayhan needs a holiday. Barış.

Which of the following completes the sentence above?

Aşağıdakilerden hangisi yukarıdaki cümleyi doğru olarak tamamlar?

- A) So does
- B) So do
- C) Neither
- D) Neither do
- E) So did

7. İbrahim had quiz yesterday. İsmet.

Which of the following completes the sentence above?

Aşağıdakilerden hangisi yukarıdaki cümleyi doğru olarak tamamlar?

- A) So did
- B) So does
- C) Nor does
- D) Neither
- E) Nor did

B

2012 3D 0106-B

8. What in the next five years?

Which of the following completes the sentence above?

Aşağıdakilerden hangisi yukarıdaki cümleyi doğru olarak tamamlar?

- A) do you do
- B) would you do
- C) will you have done
- D) did you do
- E) would you have done

9. Saim wasn't at home last night. Cenk wasn't at home either. Neither Saim nor Cenk at home last night.

Which of the following completes the sentence above?

Aşağıdakilerden hangisi yukarıdaki cümleyi doğru olarak tamamlar?

- A) are
- B) had been
- C) weren't
- D) wasn't
- E) were

10. The baby is crying. She be hungry.

Which of the following completes the sentence above?

Aşağıdakilerden hangisi yukarıdaki cümleyi doğru olarak tamamlar?

- A) ought
- B) must
- C) could have
- D) would
- E) must have

11. Ann : I want to buy that expensive dress.
Betty : Well, you save some money.

Which of the following completes the dialogue above?

Aşağıdakilerden hangisi yukarıdaki konuşmayı doğru olarak tamamlar?

- A) ought
- B) should have
- C) would have
- D) should
- E) would

12. Jill : Bob hasn't come yet.
John : He must have the bus.

Which of the following completes the dialogue above?

Aşağıdakilerden hangisi yukarıdaki konuşmayı doğru olarak tamamlar?

- A) miss
- B) can miss
- C) missing
- D) was missing
- E) missed

13. Tolga doesn't like Physics. Gülse doesn't like Physics either. Neither Tolga nor Gülse Physics.

Which of the following completes the sentence above?

Aşağıdakilerden hangisi yukarıdaki cümleyi doğru olarak tamamlar?

- A) doesn't like
- B) have liked
- C) like
- D) will like
- E) can like

14. Bob : What's wrong with you?
Bill : I failed my test.
Bob : Well, you hard last night.

Which of the following completes the dialogue above?

Aşağıdakilerden hangisi yukarıdaki konuşmayı doğru olarak tamamlar?

- A) should have studied
- B) should study
- C) must study
- D) may study
- E) must have studied

2012 3D 0106-B

15. I didn't see Tom yesterday. He could have to Bodrum.

Which of the following completes the sentence above?

Aşağıdakilerden hangisi yukarıdaki cümleyi doğru olarak tamamlar?

- A) go
- B) goes
- C) going
- D) gone
- E) went

16. Ann : What shall we do tomorrow?
Mary : We go shopping.

Which of the following completes the dialogue above?

Aşağıdakilerden hangisi yukarıdaki konuşmayı doğru olarak tamamlar?

- A) shall
- B) might have
- C) could
- D) have
- E) must have

17. Engin didn't telephone Zeynep. He..... lost the number.

Which of the following completes the sentence above?

Aşağıdakilerden hangisi yukarıdaki cümleyi doğru olarak tamamlar?

- A) may
- B) should have
- C) might have
- D) might
- E) ought to

18. If you get a stomachache, you see a doctor.

Which of the following completes the sentence above?

Aşağıdakilerden hangisi yukarıdaki cümleyi doğru olarak tamamlar?

- A) might have
- B) ought to
- C) could
- D) must have
- E) would

19. A : Why are you late for the quiz?
B : I went to the cinema last night and I couldn't wake up.
A : You there.

Which of the following completes the dialogue above?

Aşağıdakilerden hangisi yukarıdaki konuşmayı doğru olarak tamamlar?

- A) mustn't have gone
- B) shouldn't go
- C) must go
- D) ought to go
- E) shouldn't have gone

20. A : Have you seen my notebook? I can't find it anywhere.
B : Have you looked in the car? It there.

Which of the following completes the dialogue above?

Aşağıdakilerden hangisi yukarıdaki konuşmayı doğru olarak tamamlar?

- A) must
- B) wasn't
- C) has been
- D) might be
- E) wasn't be

2012 3D 0106-B

1. "Mahcur" ne demektir?

- A) Kısıtlı
- B) Ehliyetli
- C) Savruk
- D) Vasi
- E) Veli

2. Çalışma hayatını, işçilerin ve işverenlerin hak ve yükümlülüklerini düzenleyen hukuk dalı aşağıdakilerden hangisidir?

- A) Medeni Hukuk
- B) Ticaret Hukuku
- C) İş Hukuku
- D) Borçlar Hukuku
- E) Anayasa Hukuku

3. Taşınır veya taşınmaz bir malın işlevini yerine getirebilmesi için bir mala sürekli olarak bağlı kılınmış taşınır mala ne ad verilir?

- A) Doğal ürün
- B) Mütemmim cüz
- C) Kat mülkiyeti
- D) Malik
- E) Eklenti

4. Aşağıdakilerden hangisi bir taşınmaz mal üzerindeki mülkiyet hakkını sona erdiren hallerden biri değildir?

- A) Kamulaştırma
- B) Taşınmazın mülkiyetinin tapudan silinmesi yoluyla terk edilmesi
- C) Taşınmaz malın işlevini yitirmesi
- D) Taşınmaz malın yok olması
- E) Mülkiyetin bir başkasına geçmesi

5. Aşağıdakilerden hangisi borç ilişkisinin unsurlarından biri değildir?

- A) İkrar
- B) Sözleşme
- C) Edim
- D) Karz
- E) Kabul

6. "Mütemmim cüz" ne demektir?

- A) Eklenti
- B) Mülkiyet
- C) Tasarruf
- D) Doğal güç
- E) Tamamlayıcı parça

7. Sosyal hayatı düzenleyen kurallardan hangisi iyiliğe ve vicdani ödevlere ilişkin kurallar bütünü olarak tanımlanır?

- A) Din kuralları
- B) Ahlak kuralları
- C) Görgü kuralları
- D) Hukuk kuralları
- E) İktisat kuralları

8. Devletin şeklini, yapısını, organların görev ve yetkilerini, birbirleriyle olan ilişkilerini, kişilerin temel hak ve hürriyetlerini düzenleyen kurallar kamu hukukunun hangi bölümünü oluşturur?

- A) Ceza Hukuku
- B) Fikri Hukuk
- C) Yargılama Hukuku
- D) Anayasa Hukuku
- E) Devletler Genel Hukuku

9. Kanunların emrettiği durumları düzenlemek için çıkarılan hukuk kaynağı aşağıdakilerden hangisidir?

- A) Tüzük
- B) Kanun
- C) Yönetmelik
- D) Kanun Hükmünde Kararname
- E) Tebliğ

10. Müşterek mülkiyete ilişkin aşağıdaki ifadelerden hangisi doğrudur?

- A) Her paydaş maldan kendi payı oranında yararlanabilir.
- B) Paydaş payını ipotek edemez.
- C) Malın tamamı üzerindeki önemli kararlarda paydaşların eşit oy hakkı vardır.
- D) Satış veya biçim değiştirme konularında bir oy fazlalığı karar için yeterlidir.
- E) Paydaş payını satamaz.

2012 3D 0106-B

11. Bir düzenleyici kurala uygun davranmadığımız takdirde karşılaşacağımız tepkiye ne ad verilir?

- A) Örf
- B) Sosyal düzen kuralı
- C) Yaptırım
- D) Görgü
- E) Adet

12. Mal topluluğu grubunun en çok rastlanan örneği aşağıdakilerden hangisidir?

- A) Dernek
- B) Vakıf
- C) Örgüt
- D) Sendika
- E) Şirket

13. Hukukta mala, eşyaya ait bir hakkı kullanma yetkisi ne ne ad verilir?

- A) Mülkiyeti muhafaza
- B) Nisbi hak
- C) Şahsi hak
- D) İpotek
- E) Mülkiyet

14. Borcun ödenmesinde hukukun uygun bulmadığı bir gecikme durumuna ne denir?

- A) Edim
- B) İbra
- C) Takas
- D) Temerrüt
- E) Ahde vefa

15. Bir sözleşmenin oluşabilmesi için gerekli olan irade açıklamasına ne denir?

- A) Edim
- B) Teklif
- C) Latife
- D) İcap
- E) Kabul

16. Hukukun tanıdığı hak ve yetkileri kullanabilen, yüklediği yükümlülükleri yüklenebilen varlığa ne ad verilir?

- A) Kayyum
- B) Gaib
- C) Veli
- D) Vasi
- E) Kişi

17. Aşağıdakilerden hangisi Borçlar Kanunu'nda belirtilen takasın gerçekleşmesi için gerekli olan şartlardan biri değildir?

- A) Edimlerin miktarlarının aynı olmaması
- B) Yanlardan birinin, kendi alacağı ile borcunu takas ettiğini açıklaması
- C) Yanların birbirine karşı borçlu olması
- D) Her iki yanın borçlarının muaccel olması
- E) Edimlerinin aynı türden olması

18. Borçlunun, borcu şahsen ifasında alacaklının bir yararı bulunuyorsa aşağıdakilerden hangisi doğrudur?

- A) Borcu, borçlunun yerine tayin ettiği bir başkası ödeyebilir.
- B) Sözleşme yenilenmiş sayılır.
- C) Temerrüt başlar.
- D) Şahsen ifa zorunludur.
- E) Borç ilişkisi sona erer.

19. Edim, bir miktar paranın ödemesi ise ifa yeri kimin ikâmetgahıdır?

- A) Borçlunun
- B) Alacaklının
- C) Malın
- D) Satıcının
- E) Alıcının

20. Taraflar arasında sözleşmenin yapıldığına kanıt olmak üzere verilen bir miktar paraya ne ad verilir?

- A) Borç
- B) Pey akçesi
- C) Pişmanlık akçesi
- D) Hava parası
- E) Cezai şart

DİL VE ANLATIM 3

B

2012 3D 0106-B

1. Aşağıdakilerden hangisi, daha çok eğitim amacıyla sınıflarda düzenlenen bir tartışma biçimidir?

- A) Münazara
- B) Sempozyum
- C) Müzakere
- D) Panel
- E) Forum

2. Aşağıdaki cümlelerin hangisi, dolaylı anlatıma örnek olabilir?

- A) Gözlerinde mavi bir menekşenin hüznü vardı.
- B) Ta uzaklardan martıların çığlıkları duyuluyordu.
- C) Bir gemi yanaştı sessiz limana.
- D) Dalgaların sesi bozdu bu büyüü.
- E) O, yeni bir şey için söz vermekten ısrarla kaçınıyordu.

3. İdeal bir panel için konuşmacı sayısı kaç kişiyi geçmemelidir?

- A) 3
- B) 4
- C) 5
- D) 6
- E) 7

4. Daha önceden belirlenmiş bir konuda farklı görüşlere sahip kişilerin bir araya gelerek konuyu çözümlmek, kendi görüşlerini açıklamak, kanıtlamak, karşı tarafın zayıf noktalarını aramak için yaptıkları söyleşmeye ne ad verilir?

- A) Sohbet
- B) Atışma
- C) Tartışma
- D) Konferans
- E) Demeç

5. Aşağıdakilerden hangisi, sunum esnasında dikkat edilmesi gereken özelliklerden biri değildir?

- A) Sözcüklerin doğru ve yerinde kullanılması
- B) Hitap edilecek izleyici hakkında bilgi toplanması
- C) Seyirciyle vücut diliyle iletişim kurulması
- D) Gereksiz ayrıntılara ve tartışmaya girilmemesi
- E) Jest ve mimiklere özen gösterilmesi

6. "Önerge" ne demektir?

- A) Bir toplantıda üyelerden bir ya da birkaçı tarafından bir sorunun çözümü için başkanlığa bildirilen görüştür.
- B) Bir duygu veya düşüncüyü işaretle veya sesler dizgesiyle bildirerek anlaşılmadığı.
- C) Bir kimsenin resmî bir kuruluşa herhangi bir durumu bildirmek için verdiği çizelgedir.
- D) Bir konuda özet olarak verilen bilgidir.
- E) Herhangi bir konuda tutulacak yol için üst makamlardan alt makamlara ve kuruluşlara belli bir esasa dayanılarak verilen buyruktur.

7. Başkanın görevleriyle ilgili aşağıdakilerden hangisi söylenemez?

- A) Yerine göre tartışmaya katıldığı, söylenenleri zaman zaman özetlediği
- B) Konu dışına çıkılmasını, tartışmanın kişiselliğe dökülmesini önlediği
- C) Tartışmaya katılanların düşüncelerini rahatlıkla söyleyebilecekleri bir ortam yarattığı
- D) Ortaya çıkan düşünceleri oya sunduğu, rapor hazırladığı
- E) Duruma ve ortama göre taraflı bir yol izlediği

B

2012 3D 0106-B

8. Dinleyiciler önünde bir söyleşi havasında yapılan, toplumsal sorunların tartışılmasında en sık uygulanan toplantı biçimi aşağıdakilerden hangisidir?

- A) Münakaşa
- B) Münazara
- C) Panel
- D) Forum
- E) Sempozyum

9. Aşağıdakilerden hangisi, panelin planında yer almaz?

- A) Bir yarışma havasının hakimiyeti
- B) Panelin sonuca bağlanması
- C) Panelin yapılış nedeni
- D) Konuşmacılara sorulacak sorular
- E) Konuşmaların özetlenmesi

10. Aşağıdaki cümlelerin hangisinde gereksiz sözcük kullanımından kaynaklanan bir anlatım bozukluğu vardır?

- A) Her tür baskı, sanatın özgürlüğünü yok eder.
- B) Sanat, insanları birbirine yaklaştıran bir etkinliktir.
- C) Yazılı basının usta kalemlerinden birini daha yitirdik.
- D) Özgüven, bilek hakkıyla kazanılan erdemdir.
- E) Her sanat eseri, bir düşünceyi savunur.

11. Çevremizdeki varlıkların sadece var olduklarını anلمانın değil, ayrıntılarıyla kavramanın "bakarkör" durumuna düşmemenin yolu nereden geçer?

- A) Düşünme
- B) Gözlem
- C) Not alma
- D) Eğitim
- E) Okuma

12. Sen ki durmadan ağlarsın
Döversin dizini.
Gel söyle bakalım ne yaptın
Nettin gençliğini?

Yukarıdaki dizelerde aşağıdakilerin hangisine değinilmemiştir?

- A) Gününü gün ederek yaşamının mutluluğuna
- B) Geriye dönüşün imkânsız olduğuna
- C) Gençliğin geri gelmeyeceğine
- D) Pişmanlığın fayda etmeyeceğine
- E) Kaybolup giden gençliğin acısına

13. Aşağıdakilerin hangisinde konuşulanları bir tutanakla belgelendirmek zorunludur?

- A) Panel
- B) Demek toplantısı
- C) Sempozyum
- D) Akademik söylev
- E) Açık oturum

14. Aşağıdaki cümlelerin hangisinde anlatım bozukluğu yoktur?

- A) Durup dinlenmeden altı saat süreyle çalışmışlar.
- B) Hayatının baharındaydı, ne yazık ki maalesef aramızdan ayrıldı.
- C) Doğru oturup eğri konuşalım, diyordu.
- D) İhtiyar adam, iyi kötü geçinip gidiyordu.
- E) Kardeşinizi tanıyor ve güveniyoruz.

15. Güçlü bir karikatürün yazıya ihtiyacı yoktur. Anlatılmak istenen düşünce, yapılan espri çizgilerde verildiği oranda karikatür güçlenir, sanatsal boyuta ulaşır.

Yukarıdaki paragrafa göre, güçlü karikatürün belirgin özelliği nedir?

- A) Güldürürken düşündürmesi
- B) Sanatsal değer taşıması
- C) Esprilerin ölçülü olması
- D) Güçlü düşünceleri yansıtmaması
- E) Sözdən arınmış olması

2012 3D 0106-B

16. Aşağıdaki cümlelerden hangisi birinci kişi anlatımına örnektir?

- A) Yüksek yüksek tepelere ev kumasınlar.
- B) Telgrafın tellerine kuşlar mı konar?
- C) Akşamın olduğu yerde bekle diyorsun.
- D) Sevinçli bir telaş içindeydiniz.
- E) Güz gülleri gibiyim, hiç bahar yaşamadım.

17. I. Hem özgün bir sanatçı olarak ustalığınızı sergileyebileceksiniz.
 II. Hem de usta bir sanatçı olarak özgün çizginizi uzaklara taşıyacaksınız.
 III. Şiirde olsun nesirde olsun ustalığa giden yollardan en çetini özgünlüktür.
 IV. Unutulmamalıdır ki her özgünlük ustalık getirmez.
 V. Her ustanın da kalemi yeniliklere açıktır, denemez.

Yukarıdaki cümlelerden bir paragraf oluşturulduğunda hangisi giriş cümlesi olur?

- A) I
- B) II
- C) III
- D) IV
- E) V

18. Yüzü biraz incelmış, saçları iyice beyazlamıştı. Onurlu yaşamının izleri daha da belirginleşmişti çehresinde. Yılların yükünü taşıyan omuzları biraz çökmüştü ama hâlâ dimdiki başı.

Yukarıdaki paragrafın anlatım biçimi aşağıdakilerden hangisidir?

- A) Tanımlayıcı
- B) Betimleyici
- C) Öyküleyici
- D) Tartışmacı
- E) Örnekleyici

19. Bir yazının özetini hazırlarken aşağıdaki sorulardan hangisine cevap aranmayabilir?

- A) Kim?
- B) Ne zaman?
- C) Hangi yazıda?
- D) Hangi konuda?
- E) Hangi düşünceyi açıklamıştır?

20. Roman, öykü, masal gibi olay yazılarının özetinde aşağıdakilerden hangisi bulunmaz?

- A) Olayın geçtiği yer
- B) Olayın kahramanları
- C) Ana düşünce
- D) Yazarın hayatı
- E) Olayın geçtiği zaman

TÜRK EDEBİYATI 7

B

2012 3D 0106-B

1. Aşağıdakilerden hangisi "deneme" türünün özelliklerinden biri değildir?

- A) Kısa olması
- B) Belirli bir planla yazılması
- C) Samimi bir dil kullanılması
- D) Düşünceyi kabul ettirme, kesin bir sonuca gitme gibi bir amacının olmaması
- E) Her konuda yazılması

2. Aşağıdaki şairlerden hangisi, "Yedi Meşaleciler" topluluğundan biri değildir?

- A) Yahya Kemal Beyatlı
- B) Sabri Esat Siyavuşgil
- C) Ziya Osman Saba
- D) Yaşar Nabi Nayır
- E) Cevdet Kudret

3. Aşağıdaki romanlardan hangisi, Oğuz Atay'a aittir?

- A) Yağmur Sıkıntısı
- B) Eski Şarkı
- C) Devlet Ana
- D) Yaban
- E) Tutunamayanlar

4. Bir insanın gezip gördüğü yerlerden edindiği izlenimleri, bilgileri aktardığı yazılara ne ad verilir?

- A) Fıkra
- B) Gezi yazısı
- C) Söylev
- D) Deneme
- E) Anı

5. Beş Hececiler topluluğunun ortak özelliği aşağıdakilerden hangisidir?

- A) Halk şiiri geleneğinden yararlanmaları
- B) Şiirlerinde bireysel duygularını dile getimeleri
- C) Süslü, kapalı bir söyleyişe yönelmeleri
- D) "Sanat sanat içindir." anlayışına bağlı kalmaları
- E) Somuta karşı soyutlamayı getimeleri

6. "Hatıralar" adlı anı kitabında Atatürk'ü anlatan yazar, aşağıdakilerden hangisidir?

- A) Ahmet Rasim
- B) Halit Ziya Uşaklıgil
- C) Ruşen Eşref Üneydin
- D) Ahmet İhsan Tokgöz
- E) Salâh Birsel

7. Aşağıdakilerden hangisi gezi yazılarının özelliklerinden biri değildir?

- A) Anlatımda hikâye planına uygunluk gözetilmesi
- B) Yalın bir dil kullanılması
- C) Gezip görülen yerlerin gerçekte olduğu gibi tasvir edilmesi
- D) Gezip görülen yerlerdeki bütün olayların ayrıntılı anlatılması
- E) Güçlü bir gözleme dayanması

8. 2006'da Nobel Edebiyat Ödülü'nü kazanan yazar, aşağıdakilerden hangisidir?

- A) Yaşar Kemal
- B) Mermi Uygur
- C) Buket Uzuner
- D) Adalet Ağaoğlu
- E) Orhan Pamuk

9. İspinozlar, 72. Koşuş, Bekçi Murtaza, Kardeş Payı gibi kendi roman ve öykülerinden oyunlaştırdığı eserleriyle Türk tiyatrosunda toplumcu gerçekçi yaklaşımın başarılı örneklerini veren yazar, aşağıdakilerden hangisidir?

- A) Oktay Rifat
- B) Yaşar Kemal
- C) Orhan Kemal
- D) Güngör Dilmen
- E) Ahmet Kutsi Tecer

10. Sokrates'in Savunması, Genç Osman, Cem Sultan gibi daha çok konusunu tarihten alan oyunları ile tanınan yazar, aşağıdakilerden hangisidir?

- A) Orhan Asena
- B) Turan Ofazoğlu
- C) Haldun Taner
- D) Refik Erduran
- E) Güngör Dilmen

B

2012 3D 0106-B

11. Aşağıdakilerden hangisi, devlet tarafından çıkarılan ilk resmi gazetedir?

- A) İrade-i Mülkiye
- B) Akam
- C) Tercüman-ı Ahval
- D) Takvim-i Vekayi
- E) Ceride-i Havadis

12. Günlük olayları, yurt sorunlarını veya herhangi bir konuyu belli bir görüş açısından ele alan kısa yazılara ne ad verilir?

- A) Anı
- B) Fıkra
- C) Söylev
- D) Günce
- E) Deneme

13. "Çalıkuşu" romanı ile yaygın bir ün kazanan, eserlerinde Anadolu kasaba ve şehirlerini fon olarak almış, insanları sorunlarıyla işleyen yazar, aşağıdakilerden hangisidir?

- A) Peyami Safa
- B) Necati Cumalı
- C) Reşat Nuri Güntekin
- D) Sabahattin Âli
- E) Sait Faik Abasıyanık

14. Aşağıdakilerden hangisi, Güngör Dilmen'in tiyatro eserlerinden biridir?

- A) İçerdekiler
- B) Halay
- C) Ay Işığında Şamata
- D) Köşebaşı
- E) Midas'ın Kulakları

15. Deneme türünün öncüsü kabul edilen Fransız yazar, aşağıdakilerden hangisidir?

- A) Andre Malraux
- B) Jean Paul Sartre
- C) Simone de Beauver
- D) Montaigne
- E) Albert Camus

16. İtalyan edebiyatında en tanınmış anı yazarı aşağıdakilerden hangisidir?

- A) Silvio Pellica
- B) Fillippo Marinetti
- C) Alberto Moraio
- D) Manzoni
- E) Carlo Goldoni

17. "Alemdağ'da Var Bir Yılan" hikâye kitabında gerçek, rüya ve hayali iç içe ele alan yazar, aşağıdakilerden hangisidir?

- A) Halide Edip Adıvar
- B) Reşat Nuri Güntekin
- C) Yaşar Kemal
- D) Sabahattin Âli
- E) Sait Faik Abasıyanık

18. Aşağıdakilerden hangisi, fıkra türünün özelliklerinden biri değildir?

- A) Daha çok güncel konuların ele alınması
- B) Kısa yazılması
- C) Bilimsel olması
- D) Gazete ve dergilerde yayımlanması
- E) Amacının okuyucunun dikkatini çekmek onu düşünmeye yöneltmek olması

19. Bilim, sanat, kültür ve başka konularda bilgi vermek, bir düşünceyi ortaya koymak ya da savunmak amacıyla yazılan, yazarın kişisel görüşlerini de yansıttığı gazete ve dergi yazılarına ne ad verilir?

- A) Makale
- B) Deneme
- C) Anı
- D) Fıkra
- E) Günce

20. "Köşebaşı" adlı tiyatro eseri, aşağıdaki yazarlardan hangisine aittir?

- A) Murathan Mungan
- B) Enis Batur
- C) Tomris Uyar
- D) Ahmet Kutsi Tecer
- E) Latife Tekin

FİZİK 3

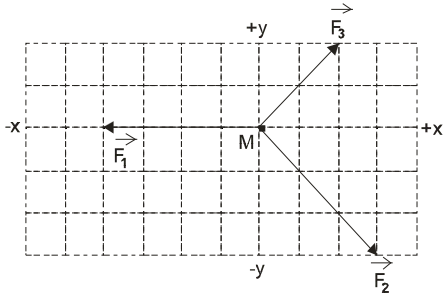
B

2012 3D 0106-B

1. 90 km/h kaç m/s dir?

- A) 20
- B) 25
- C) 30
- D) 35
- E) 40

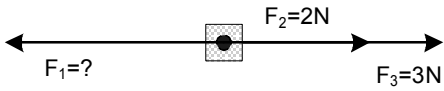
2.



Noktasal M cisminin +x yönünde hareket etmesi için hangi yönde, kaç birimlik bir kuvvet daha uygulanmalıdır? (Bölmeler 1 birimdir)

- A) +y yönünde 1 birim
- B) +y yönünde 2 birim
- C) -y yönünde 2 birim
- D) +x yönünde 1 birim
- E) -x yönünde 1 birim

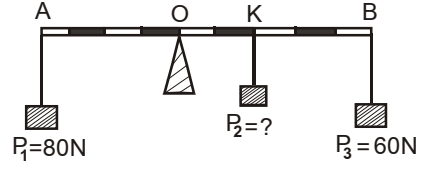
3.



Yukarıdaki şekildeki cisim \vec{F}_1 , \vec{F}_2 ve \vec{F}_3 kuvvetlerinin etkisinde dengede olduğuna göre \vec{F}_1 kaç N dur?

- A) 1
- B) 4
- C) 5
- D) 6
- E) 13

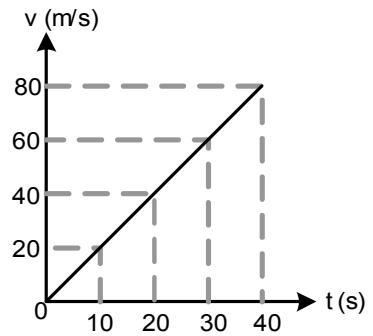
4.



Eşit bölmeli türdeş AB çubuğuna P_1, P_2 ve P_3 yükleri yukarıdaki şekildeki gibi asılmıştır. Buna göre, bu sistemin yatay konumda dengede kalabilmesi için K noktasına asılan P_2 yükünün değeri kaç Newton olmalıdır? (Çubuk ağırlığı önemsizdir.)

- A) 5
- B) 10
- C) 15
- D) 20
- E) 25

5.



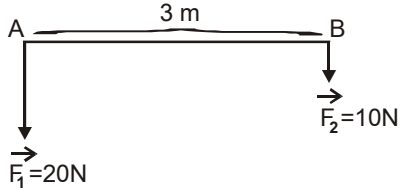
Yukarıdaki hız-zaman grafiğinde verilen hareketlinin ivmesi kaç m/s^2 dir?

- A) 0,5
- B) 1
- C) 1,5
- D) 2
- E) 2,5

B

2012 3D 0106-B

6.



Yukarıdaki şekilde ağırlığı önemsiz 3m uzunluğundaki homojen çubuğun uçlarına $\vec{F}_1=20\text{N}$ ve $\vec{F}_2=10\text{N}$ luk iki kuvvet etki etmektedir. Buna göre, sisteme etki eden bileşke kuvvetin büyük kuvvete uzaklığı kaç metredir?

- A) 0,5
- B) 1
- C) 1,5
- D) 2
- E) 2,5

7. ve 8. sorular aşağıdaki bilgilere göre cevaplandırılacaktır.

Durmakta olan bir araç sabit ivme ile hareket etmeye başlamış ve 2. saniye sonunda 10 m yol almıştır.

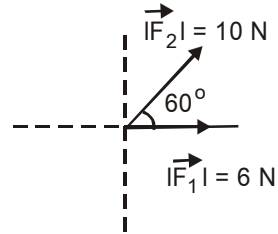
7. Bu bilgilere göre, bu aracın 2. saniye sonundaki ivmesi kaç m/s^2 dir?

- A) 0,5
- B) 1
- C) 2
- D) 3
- E) 4

8. Bu bilgilere göre, bu aracın 2. saniye sonundaki hızı kaç m/s 'dir?

- A) 2
- B) 4
- C) 6
- D) 8
- E) 10

9.



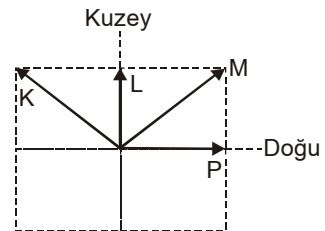
Yukarıda aynı düzlemde bulunan, büyüklükleri 6 N ve 10 N olan \vec{F}_1 ve \vec{F}_2 kuvvetlerinin bileşkesinin büyüklüğü kaç N dur? ($\cos 60^\circ = 0,5$)

- A) 8
- B) 12
- C) 13
- D) 14
- E) 15

10. 90 km/h kaç m/s 'dir?

- A) 25
- B) 30
- C) 35
- D) 40
- E) 45

11.



Yukarıdaki şekildeki K, L M ve P araçlarının yere göre hızları verilmiştir. K, L ve P araçlarındaki gözlemcilerden hangileri M aracını doğuya doğru gidiyormuş gibi görür?

- A) Yalnız K
- B) Yalnız L
- C) K ve L
- D) K ve P
- E) L ve P

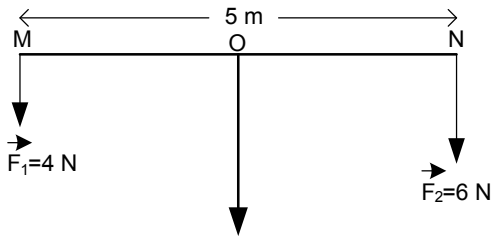
2012 3D 0106-B

12. Kuvvetin döndürme etkisinin ölçüsüne ne ad verilir?

- A) İvme
- B) Moment
- C) Ağırlık
- D) Kütle
- E) Vektör

13. ve 14. sorular aşağıdaki bilgilere göre cevaplandırılacaktır.

Aşağıdaki şekilde, uzunluğu 5 m olan ağırlığı önemsiz homojen çubuğun uçlarına $F_1=4$ N ve $F_2=6$ N kuvvetleri etki etmektedir.



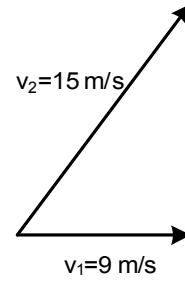
13. Bu bilgilere göre, sistemin dengede durabilmesi için uygulama noktası N noktasından kaç metre uzakta olmalıdır?

- A) 1
- B) 1,5
- C) 2
- D) 2,5
- E) 3

14. Bu bilgilere göre, F_1 ve F_2 kuvvetlerinin bileşkesi kaç N dur?

- A) 10
- B) 12
- C) 16
- D) 18
- E) 24

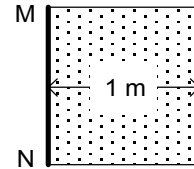
15.



Yukarıdaki şekilde yatay düzlemde $v_1=9$ m/s hızla doğuya giden bir aracın sürücüsü, kuzeydoğuya doğru $v_2=15$ m/s hızla giden bir aracı kaç m/s hızla gidiyor olarak görür?

- A) 6
- B) 8
- C) 10
- D) 12
- E) 24

16.

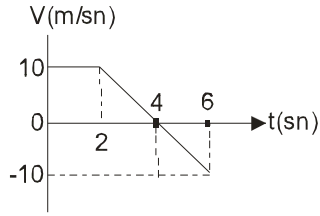


MN eksenini etrafında dönebilen, eni 1 m olan bir çerçeveye 10 N'luk bir kuvvet etki ederse, dönme eksenine göre momenti kaç N.m olur?

- A) 5
- B) 9
- C) 10
- D) 11
- E) 20

2012 3D 0106-B

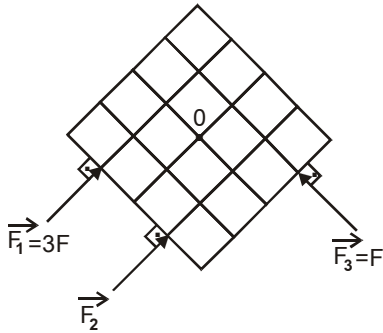
17.



Hız-zaman grafiği yukarıdaki şekildeki gibi olan bir cisim (0-6) sn aralığında yer değiştirmesi kaç metredir?

- A) 20
- B) 30
- C) 40
- D) 50
- E) 60

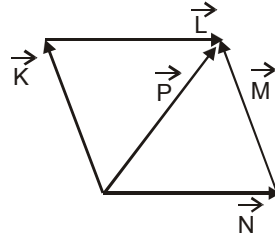
18.



Yukarıdaki şekilde O noktasından etrafında dönebilen bir levhaya \vec{F}_1 , \vec{F}_2 ve \vec{F}_3 kuvvetleri uygulanmaktadır. Levha dengede olduğuna göre, \vec{F}_2 kuvvetinin büyüklüğü kaç F dir? (Bölmeler eşit aralıktır.)

- A) 1/2
- B) 1
- C) 3/2
- D) 2
- E) 4

19.



Yukarıdaki şekildeki vektörlerin her birinin değeri x olduğuna göre, beş vektörün bileşkesinin değeri kaç x tir?

- A) x
- B) 2x
- C) 3x
- D) 4x
- E) 5x

20. Yerin cisme uyguladığı çekim kuvvetine ne ad verilir?

- A) İvme
- B) Kütle
- C) Moment
- D) Hacim
- E) Ağırlık

2012 3D 0106-B

1. Aşağıdakilerden hangisi gelişmiş bütün canlı hücrelerin ortak özelliğidir?

- A) Seçici geçirgen bir zarla çevrilmiş olma
- B) Eşit sayıda ribozom taşıma
- C) Işığa doğru yönelme
- D) Besin sentezleme
- E) Aynı sayıda kromozom taşıma

2. Aşağıdaki organellerden hangisinin işlevini yapması doğrudan ışığa bağlıdır?

- A) Hücre duvarı
- B) Hücre zarı
- C) Mitokondri
- D) Kloroplast
- E) Lizozom

3. Hücre zarının bazı özellikleri aşağıdaki gibidir:

- I. Esnektir.
- II. Çok incedir.
- III. Akıcı-mozaik görünümündedir.
- IV. Bileşiminde protein-yağ molekülleri bulunur.
- V. Küçük molekülleri büyük moleküllerden daha kolay geçirir.

Yukarıdaki özelliklerden hangisi hücre zarının seçici geçirgen olduğunu belirtmektedir?

- A) I
- B) II
- C) III
- D) IV
- E) V

4. Aşağıdakilerden hangisi suyun yeryüzünü canlıların yaşaması için uygun bir ortam haline getirmesinde etkili değildir?

- A) Sıcaklığı kararlı tutabilmesi
- B) İyi bir çözücü olması
- C) Yapısında hidrojen ve oksijen olması
- D) Kohezyon özelliği
- E) Donduğu zaman genişmesi

5. Memelilerin kanında bulunan akyuvarların sitoplazmik uzantılar (yalancı ayak) oluşturarak mikropları sarması ve yemesi, aşağıdaki olaylardan hangisine örnek gösterilebilir?

- A) Pinositoz
- B) Fagositoz
- C) Ekzositoz
- D) Kommensalizm
- E) Osmoz

6. $\begin{array}{cccccccccccc} | & | & | & | & | & | & | & | & | & | & | & | \\ \hline A & T & T & G & C & G & A & A & C & C & G & \end{array}$

Yukarıdaki DNA molekülüne ait 1. zincirin karşılığını oluşturacak 2. zincirdeki baz dizilişi aşağıdakilerden hangisidir?

- A) $\begin{array}{cccccccccccc} | & | & | & | & | & | & | & | & | & | & | & | \\ \hline T & A & A & C & G & C & T & T & G & G & C & \end{array}$
- B) $\begin{array}{cccccccccccc} | & | & | & | & | & | & | & | & | & | & | & | \\ \hline A & T & T & G & C & G & A & A & C & C & G & \end{array}$
- C) $\begin{array}{cccccccccccc} | & | & | & | & | & | & | & | & | & | & | & | \\ \hline T & A & A & C & G & A & U & G & G & C & & \end{array}$
- D) $\begin{array}{cccccccccccc} | & | & | & | & | & | & | & | & | & | & | & | \\ \hline U & A & A & C & G & C & U & U & G & G & C & \end{array}$
- E) $\begin{array}{cccccccccccc} | & | & | & | & | & | & | & | & | & | & | & | \\ \hline A & U & U & G & C & A & A & C & C & G & A & \end{array}$

7. Aşağıdakilerden hangisi tüm canlılar için ortak özelliklerden biri değildir?

- A) Uyarılara tepki verme
- B) Hücreli yapıya sahip olma
- C) Enerji kullanma
- D) Büyüme ve gelişme
- E) Kendi besinini sentezleyebilme

2012 3D 0106-B

8. Aşağıdakilerden hangisi enzimlerin genel özelliklerinden biri değildir?

- A) Hücrelerde biyokimyasal tepkimelerin hızını düzenler.
- B) Hücre içinde ve dışında aktif olabilirler.
- C) Cansız ortamda meydana gelirler.
- D) Protein yapılı organik katalizördürler.
- E) Her enzim ancak özgül maddelerine etki eder.

9. Aşağıdakilerden hangisi hücre zarıyla doğrudan ilgili olaylardan biri değildir?

- A) Pinositoz
- B) Osmoz
- C) Difüzyon
- D) Organik madde sentezi
- E) Fagositoz

10. Bir hücre enerji ihtiyacını karşılamak için öncelikle aşağıdakilerden hangisini kullanır?

- A) Nişasta
- B) Glikoz
- C) Glikojen
- D) Protein
- E) Yağ

11. Aşağıdakilerden hangisi bir polisakkarit çeşidi değildir?

- A) Nişasta
- B) Glikojen
- C) Maltoz
- D) Selüloz
- E) Kitin

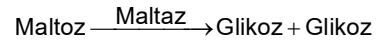
12. Aşağıdaki hücresel yapılardan hangisinin yok edilmesi, o bitkinin nişasta depolamasını engeller?

- A) Kromoplast
- B) Kloroplast
- C) Sitoplazma
- D) Çekirdek
- E) Lökoplast

13. Çiçekli bir bitkinin hücrelerinde aşağıdaki organellerden hangisi bulunmaz?

- A) Kloroplast
- B) Ribozom
- C) Mitokondri
- D) Sentrozom
- E) Koful

14. Bir bitki hücresinde gerçekleşen biyokimyasal reaksiyonlardan biri aşağıdaki gibidir;



Bu reaksiyonun hızını aşağıdaki faktörlerden hangisi etkilemez?

- A) Hücrenin iç yüzeyi
- B) Ortamın sıcaklığı
- C) Ortamın pH durumu
- D) Maltoz miktarı
- E) Maltaz miktarı

15. Aşağıdaki organik bileşiklerden hangisinin hidrolizi sırasında ester bağları kopar?

- A) Maltoz
- B) Lipit
- C) Glikojen
- D) Protein
- E) Nişasta

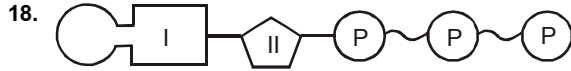
2012 3D 0106-B

16. Aşağıdakilerden hangisi protein sentezinde görev yapan DNA anlamlı dizisinin baz sırası olamaz?

- A) GCCAATTCG
- B) AGCTGCCAT
- C) AUCCGTUAG
- D) CGTACGTAC
- E) TGCTTACGA

17. Aşağıdaki hücrel organellerden hangisinin kendine özgü DNA'sı ve ribozomları vardır?

- A) Lizozom
- B) Golgi aygıtı
- C) Sentrozom
- D) Ribozom
- E) Kloroplast



Yukarıda verilen DNA molekülüne ait adenin nükleotinin I ve II ile gösterilen kısımlarına aşağıdakilerden hangisi yazılabilir?

- | I | II |
|-----------|-------------|
| A) Adenin | Deoksiriboz |
| B) Urasil | Deoksiriboz |
| C) Adenin | Riboz |
| D) Urasil | Riboz |
| E) Riboz | Deoksiriboz |

19. Aşağıdaki hücrel organellerden hangisi yalnız bitkisel hücrelere özgüdür?

- A) Mitokondri
- B) Sentrozom
- C) Ribozom
- D) Kloroplast
- E) Koful

20. Sağlıklı bir insanın kas hücresi ile kemik hücresi karşılaştırıldığında, aşağıdakilerden hangisinin her ikisinde de eşit miktarda bulunması beklenir?

- A) Karbonhidrat
- B) Çekirden DNA'sı
- C) Enzim
- D) Yağ
- E) Protein

BİYOLOJİ 5

B

2012 3D 0106-B

1. Aşağıdakilerden hangisi kanama olduğunda pıhtılaşmayı sağlayarak kanın vücut dışına akmasını durdurur?

- A) Lenfositler
- B) Trombositler
- C) Lökositler
- D) Eritrositler
- E) Monositler

2. Aşağıdakilerden hangisi yassı kemiktir?

- A) El parmak kemikleri
- B) Ön kol kemiği
- C) Kürek kemiği
- D) Uyluk kemiği
- E) Kaval kemiği

3. Aşağıdakilerden hangisi fagositöz yapar?

- A) Nötrofiller
- B) Bazofiller
- C) Makrofajlar
- D) Lenfositler
- E) Eozinofiller

- 4. I. Temel doku
- II. Koruyucu doku
- III. Destek doku
- IV. Salgı doku

Yukarıdakilerden hangileri bölünmez dokudur?

- A) Yalnız I
- B) I ve II
- C) II ve IV
- D) III ve IV
- E) I, II, III ve IV

- 5. I. Uzağı iyi görememe
- II. Yakını iyi görememe
- III. Renkleri ayıramama

Yukarıdakilerden hangileri miyop hastalığında görülür?

- A) Yalnız I
- B) I ve II
- C) I ve III
- D) II ve III
- E) I, II ve III

6. Aşağıdakilerden hangisi sitoplazması hafif pembe renkte granüllerle kaplı bir akyuvardır?

- A) Eozinofil
- B) Bazofil
- C) Lenfosit
- D) Monosit
- E) Nötrofil

7. Kaburgaların altında, karın boşluğunun sol üst bölgesinde bulunan organ aşağıdakilerden hangisidir?

- A) Karaciğer
- B) Safra kesesi
- C) Kalınbağırsak
- D) Mide
- E) Kalp

8. Gözdeki ağ tabaka ile ilgili aşağıdaki ifadelerden hangisi yanlıştır?

- A) Göz küresinin en dıştaki tabakasıdır.
- B) Işığa duyarlı almaçlar ve sinirler bulunur.
- C) Işık almaçları çubuk ve koni hücreleridir.
- D) Çubuk hücreleri az ışıktaki görmeyi sağlar.
- E) Koni hücreleri yeterli ışıktaki renkli görmeyi sağlar.

9. Soymuk boruları ile ilgili aşağıdaki ifadelerden hangisi yanlıştır?

- A) Üst üste dizilen tek sıra halindeki canlı hücrelerden oluşur.
- B) Hücreler arasında delikler vardır.
- C) Kalınlı borular da denir.
- D) Organik maddeler taşınır.
- E) Soymuk borularındaki iletim, odun borularına göre daha hızlıdır.

10. Aşağıdakilerden hangisi bitkinin yer çekimine karşı gösterdiği yönelme hareketidir?

- A) Tigmotropizma
- B) Termonasti
- C) Kemotropizma
- D) Gravitropizma
- E) Fotonasti

11. Aşağıdakilerden hangisinde sindirim sistemi bulunmaz?

- A) Halkalı solucan
- B) Sünger
- C) Kuş
- D) Çekirge
- E) Yuvarlak solucan

B

2012 3D 0106-B

12. Yağ dokusu ile ilgili aşağıdaki ifadelerden hangisi yanlıştır?

- A) Vücuda desteklik verir.
- B) Vücut sıcaklığının sabit kalmasını sağlar.
- C) Hücrelerinde yağ depolamak üzere özelleşmiştir.
- D) Vücudu çarpma ve vurmalarından korur.
- E) Deri altında ve organların etrafında bulunur.

13. Proteinlerin sindirimi nerede sonlanır?

- A) Yutakta
- B) Kalınbağırsakta
- C) Ağızda
- D) İncebağırsakta
- E) Midede

14. Alyuvarlar ile ilgili aşağıdaki ifadelerden hangisi yanlıştır?

- A) Yaşam süresini tamamlayan alyuvarlar karaciğer ve dalakta parçalanır.
- B) Yaşam süreleri 2 gündür.
- C) Hemoglobini içerdiğinden kırmızı renktedir.
- D) Gaz alışverişini sağlarlar.
- E) Embriyo döneminde karaciğer ve dalakta yapılır.

15. Aşağıdaki enzimlerden hangisi pankreastan salgılanmaz?

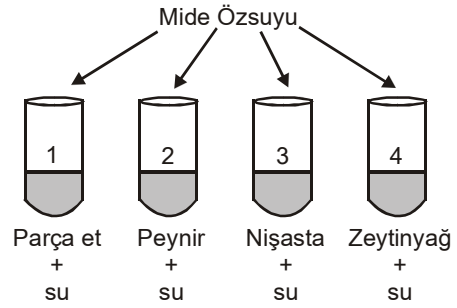
- A) Amilaz
- B) Tripsinojen
- C) Kimotripsinojen
- D) Pepsinojen
- E) Lipaz

16. I. A
II. B
III. AB
IV. O

Yukarıdakilerin hangisinde alyuvarlarda antijen yoktur?

- A) Yalnız I
- B) Yalnız III
- C) Yalnız IV
- D) I ve II
- E) I ve III

17.



Yukarıdaki düzenekler hazırlanıp tüplere mide özsuyu ilave edildikten sonra, hangi tüplerde kimyasal sindirim meydana gelir?

- A) 1 ve 2
- B) 2 ve 4
- C) 1, 3 ve 4
- D) 3 ve 4
- E) 2, 3 ve 4

18. Aşağıdakilerden hangisi sinir hücresidir?

- A) Kollajen
- B) Osteoblast
- C) Nöron
- D) Kondrosit
- E) Kondrin

19. I. Aktin
II. Miyozin
III. Sarkomer
IV. H bölgesi

Yukarıdakilerden hangileri iskelet kasının yapısında bulunur?

- A) Yalnız I
- B) Yalnız II
- C) I ve II
- D) III ve IV
- E) I, II, III ve IV

20. Aşağıdakilerden hangisi disakkaritlerin, monosakkaritlere parçalandığı yerdir?

- A) Mide
- B) İncebağırsak
- C) Ağız
- D) Yutak
- E) Kalınbağırsak

BİYOLOJİ 8

B

2012 3D 0106-B

1. **Matematiği biyoloji bilimine ilk uygulayan bilim insanı aşağıdakilerden hangisidir?**

- A) Smith
- B) Weinberg
- C) Dewey
- D) Stoor
- E) Mendel

2. **Aşağıdakilerden hangisi biyolojik yöntemlerle elde edilen ürünlerden biri değildir?**

- A) Süt ürünleri
- B) Penisilin
- C) Et ürünleri
- D) Maya ürünleri
- E) Aşı

3. **Hardy-Weinberg prensibi aşağıda verilen durumların hangisinin bulunmasına yardımcıdır?**

- A) Mayoz bölünmede Crossing-Over frekansının
- B) Modifikasyonların genotip üzerine etkisinin
- C) Bir popülasyondaki genlerin ayrılmama oranlarının
- D) Bir popülasyondaki farklı genotiplerin frekansının
- E) Modifikasyonların fenotip üzerine etkisinin

4. **Aşağıdakilerden hangisi insanda eşey kromozomlarının (gonozomlar) birbirinden ayrılmaması sonucunda dişilerde görülen Turner sendromunun kromozom formülüdür?**

- A) 44+XO
- B) 45+XX
- C) 44+XXX
- D) 45+XY
- E) 44+XXY

5. **DNA molekül zinciri üzerinde yer alan ortalama 1500 nükleotit'ten oluşan DNA bölümü aşağıdakilerden hangisidir?**

- A) Alyuvar
- B) Gen
- C) Akyuvar
- D) RNA
- E) Hücre

6. **AaBb X Aa BB çaprazından aşağıda genotipi yazılı bireylerden hangisi normal koşullarda oluşmaz?**

- A) aaBb
- B) AABB
- C) AaBb
- D) aabb
- E) AABb

7. **Belirli bir alanda yaşayan, kendi aralarında çiftleşebilme yeteneğine sahip olan aynı türün bireylerinin oluşturduğu topluluğa ne ad verilir?**

- A) Populasyon
- B) Varyans
- C) Modifikasyon
- D) Mutasyon
- E) İzolasyon

8. **A Rh(+) bir anne ile 0Rh(-) bir babadan 0Rh(-) bir çocuğun olma olasılığı kaçtır?**

- A) $\frac{1}{32}$
- B) $\frac{1}{6}$
- C) $\frac{1}{8}$
- D) $\frac{1}{4}$
- E) $\frac{1}{2}$

9. **Mühendislik bilgisi ve teknolojinin tıp veya biyoloji bilimine uyarlanmasına ne ad verilir?**

- A) Biyoteknoloji
- B) Moleküler biyoloji
- C) Genetik
- D) Nükleer tıp
- E) Endokrin tıp

10. I. Elektroporasyon
II. Biolistik
III. Mikroenjeksiyon

Yukarıdaki yöntemlerden hangileri DNA'nın hayvan hücresine aktarımı sırasında kullanılır?

- A) Yalnız I
- B) Yalnız II
- C) I ve III
- D) II ve III
- E) I, II ve III

B

2012 3D 0106-B

11. Heterozigot koyu renk gözlü bir baba ile açık renk gözlü anneden açık renk gözlü bir çocuğun olma olasılığı kaçtır? (Koyu renk, açık renge baskındır.)

A) $\frac{1}{1}$
 B) $\frac{1}{2}$
 C) $\frac{1}{4}$
 D) $\frac{1}{8}$
 E) $\frac{1}{16}$

12. Gen frekansı ilk defa kaç yılında hesaplanmıştır?

A) 1905
 B) 1906
 C) 1907
 D) 1908
 E) 1909

13. İnsanda dil yuvarlama baskın özelliktir. Dil yuvarlama geni frekansının %80 olduğu bir toplumda 10000 kişiden kaçının dilini yuvarlaması beklenir?

A) 200
 B) 400
 C) 3200
 D) 6400
 E) 9600

14. Kuduz aşısını aşağıdaki bilim insanlarından hangisi geliştirmiştir?

A) Cassatt
 B) Crick
 C) Pasteur
 D) Pattinson
 E) Manet

15. Aşağıdakilerden hangisi biyoteknolojik yöntemler yolu ile elde edilen ürünlerden biri değildir?

A) Alkollü içecekler
 B) Canlıların doğal yoldan üremesi
 C) Leke çıkarıcı deterjanlar
 D) Süt ürünleri
 E) İnsülin hormonu

16. Bir türde bir karakter üzerine A1, A2, A3 ve A4 olmak üzere dört alel gen etki etmektedir. Buna göre bu karakter yönünden kaç çeşit genotip oluşabilir?

A) 2
 B) 4
 C) 6
 D) 8
 E) 10

17. AA genotipli bireyden A geni taşıyan gamet üretme olasılığı nedir?

A) 1/1
 B) 1/2
 C) 1/4
 D) 1/5
 E) 1/6

18. Saç ve gözde renk maddesi eksikliğine bağlı olarak meydana gelen beyaz saçlı, kırmızı gözlü ve açık tene sahip bireylere ne ad verilir?

A) Danino
 B) Adriano
 C) Albino
 D) Kimono
 E) Petito

19. Aşağıdaki gametlerin hangilerinin birleşmesi sonucunda Down Sendromlu (Mongol) erkek oluşabilir?

A) 22+X ile 23+X
 B) 22+X ile 23+Y
 C) 22+Y ile 22+XY
 D) 23+Y ile 22+XY
 E) 22+XY ile 22+0

20. Aşağıdakilerden hangisi çekinik genlerin neden olduğu hastalık türlerinden biri değildir?

A) Bazı sağırılıklar
 B) Kistik fibrozis
 C) Huntington
 D) Albinizm
 E) Hemofili

MANTIK 1

B

2012 3D 0106-B

1. Özelden genele yapılan akıl yürütme biçimine ne ad verilir?

- A) Benzeşim
- B) Çelişmezlik
- C) Tümevarım
- D) Tümdengelim
- E) Yeter sebep

2. Aşağıdaki önermelerden hangisi üçüncü durumun olanaksızlığı ilkesinin sembolik dilde ifade ediliş biçimidir?

- A) $A \Rightarrow A$
- B) $A \wedge \neg A$
- C) $A \Leftrightarrow A$
- D) $\neg(\neg A \wedge \neg A)$
- E) $A \vee \neg A$

3. İstanbul ve İzmir Büyükşehirlerdir.
İzmir'de Devlet Tiyatroları vardır.
O halde İstanbul'da da Devlet Tiyatroları vardır.

Yukarıdaki ne tür bir akıl yürütmedir?

- A) Benzeşim
- B) Tümevarım
- C) Çelişmezlik
- D) Tümdengelim
- E) Özdeşlik

4. Aşağıdakilerden hangisi mantıkla ilgili yanlış bir ifadedir?

- A) Mantıklı düşünmek, doğru akıl yürütmek anlamına gelir.
- B) Mantık, tüm bilimlerin temelinde yer almak zorundadır.
- C) Mantık, doğru düşünmenin kurallarını araştırır.
- D) Mantık, düşüncelerin gerçekte doğru olup olmadıklarını denetler.
- E) Mantık doğruları, gözlem ve deney sonucu ulaşılır.

5. Aşağıdaki ifadelerden hangisi geçerli akıl yürütmeyi tanımlar?

- A) Hem öncüllerin hem de sonucun doğru önermeler olmalıdır.
- B) Akıl yürütmenin sonucu ile verilen öncüllerin birbirleriyle tutarlı olmalıdır.
- C) Akıl yürütmenin sonucu ile verilen öncüllerin çelişmesidir.
- D) Akıl yürütmenin sonucunun, verilen öncüllerden zorunlu olarak çıkmasıdır.
- E) Akıl yürütmenin sonucu ile verilen öncüllerin değilliklerinin bir arada tutarlı olmalıdır.

6. Aşağıdaki önermelerden hangisi çelişmezlik ilkesine bir örnektir?

- A) Duvar boyalıdır ya da boyalı değildir.
- B) Hem ölümlü hem de ölümsüz olamam.
- C) Mutluluk mutluluktur.
- D) İnsanlar güzeli güzel bulurlar.
- E) Beş ile yedinin toplamı beş ile yedinin toplamına karşılık gelir.

7. Aşağıdaki önerme ile ilgili ifadelerden hangisi yanlıştır?

- A) Tikel olumsuz bir önermenin düz döndürmesi (evirme) yoktur.
- B) "Bütün yaşlılar sevecendir." önermesinin düz döndürmesi "Bazı sevecenler yaşlıdır." önermesidir.
- C) "Her insan adildir." önermesinin ters döndürmesi "Her adil olmayan insandır." önermesidir.
- D) Tikel olumlu bir önermenin ters döndürmesi yoktur.
- E) "Bazı çiçekler kokusuzdur." önermesinin düz döndürmesi "Bazı kokusuzlar çiçektir." önermesidir.

8. Bütün çocuklar yaramazdır.
Bazı masumlar çocuktur.

O halde, bazı masumlar yaramazdır.

Yukarıdaki kıyasın doğru biçimi aşağıdakilerden hangisidir?

- A) PM, MS \therefore SP
- B) MP, SM \therefore SP
- C) PM, SM \therefore SP
- D) MP, MS \therefore SP
- E) PM, SM \therefore PS

9. "Düşünüyorum öyleyse varım." kıyası, aşağıdaki kıyas biçimlerinden hangisine bir örnektir?

- A) Sorit
- B) Zincirleme kıyas
- C) Entimem
- D) Basit kıyas
- E) İkilem

10. Aşağıdaki kavram çiftlerinden hangisi sırasıyla "tekil kavram" ve "genel kavram"a bir örnektir?

- A) Ebru, Mehmet
- B) Çalışkan, tembel
- C) Kırmızı, kırmızı olmayan
- D) Bütün insanlar, bazı insanlar
- E) Zürafa, hayvan

B

2012 3D 0106-B

11. Aşağıdaki kavram çiftlerinden hangisi sırasıyla "olumlu kavram" ve "olumsuz kavram"a bir örnektir?

- A) Bitki, tüm bitkiler
- B) İnsan, insanlık
- C) Nihal, insan
- D) Sabırlı, sabırsız
- E) Okul, öğrenci

12. Aşağıdaki önerme çiftlerinden hangisi kavramlar arasındaki ayrıklık ilişkisini ortaya koyar?

- A) Bazı eşyalar dört köşelidir. Bazı dört köşeliler eşyadır.
- B) Bazı çocuklar yaramazdır. Bazı yaramazlar çocuktur.
- C) Bütün çiçekler meyvelidir. Bazı meyveliler çiçektir.
- D) Hiçbir doktor sanatçı değildir. Hiçbir sanatçı doktor değildir.
- E) Bütün atlar dört ayaklıdır. Bütün dört ayaklılar atır.

13. Aşağıdakilerden hangisi bir önerme değildir?

- A) $2+3=5$
- B) H_2O
- C) Dünya yuvarlak değildir.
- D) İstersen yaparsın.
- E) Hava yağmurlu.

14. Aşağıdaki kavram çiftlerinden hangisi çelişik kavramlara bir örnektir?

- A) Kalabalık-Tenha
- B) Açık-Kapalı
- C) Kiralık-Satılık
- D) Hisli-Duygusuz
- E) Katı-Katı olmayan

15. Aşağıdaki kavram çiftlerinden hangisinde genel kavram ile tekil kavram birlikte verilmiştir?

- A) Sanatçı-Bazı sanatçılar
- B) Kadın-Erkek
- C) Erkek-Mehmet
- D) İnsan-Hayvan
- E) Tüm futbolcular-Hakan Şükür

16. Aşağıdaki kavram çiftlerinden hangisinde, sırasıyla kolektif kavram ile distribütif kavram verilmiştir?

- A) İnsan-Hayvan
- B) Milletvekili-Meclis
- C) Ali-Bazı insanlar
- D) Orman-Yangın
- E) Aile-Çocuk

17. Aşağıdakilerden hangisi, birbirinin karşıtı olan kavramlardır?

- A) Puslu-Puslu olmayan
- B) Tembel-Çalışkan
- C) Pis-Pis olmayan
- D) Görkemli-Görkemli olmayan
- E) Kırmızı-Kırmızı olmayan

18. Aşağıdaki kavram çiftlerinden hangisi birbirinin karşıtı değildir?

- A) Ak-Ak olmayan
- B) Sıcak-Soğuk
- C) Aşağı-Yukarı
- D) Basit-Zor
- E) Açık-Kapalı

19. Aşağıdakilerden hangisi kısaltılmış kıyas'a (entimem) bir örnek değildir?

- A) İnsan ya ölümlü ya da ölümsüzdür, insan ölümsüz değildir, demek ki insan ölümlüdür.
- B) Eğer düşünüyorsam, aynı zamanda varımdır da.
- C) Evde köpek bakmak faydalıdır, çünkü insanın tüm stresini alır.
- D) Kitap okuyorum, demek ki entelektüelim.
- E) Spor yapmak faydalıdır, çünkü sağlık getirir.

20. Aşağıdaki kıyaslardan hangisi bir ikilem örneğidir?

- A) Eğer sen iyi bir öğretmensen, ne korkak ne de sertsindir; ama sen hem korkaksın hem de sert; o halde sen iyi bir öğretmen değilsin.
- B) Ya bu deveyi güdeceksin ya da bu diyardan gideceksin; bu deveyi gütmeyeceksin; o halde bu diyardan gideceksin.
- C) İnsanlar canlıdır; Senem bir insandır; o halde Senem canlıdır.
- D) Evren ya sonlu ya da sonsuzdur; evren sonlu değildir; o halde evren sonsuzdur.
- E) Dans etmek faydalıdır, çünkü ter atarsın.

TRAFİK VE İLK YARDIM BİLGİSİ 2

B

2012 3D 0106-B

1. İlgili uzman hekimin vermiş olduğu sağlık raporu doğrultusunda sürücülüğe engel hali tespit edilen veya hakkında karar verilemeyen aday, bu durumla ilgili itirazını aşağıdaki kurumlardan hangisine yapabilir?

A) Devlet hastanesine
B) Tıp fakültesine
C) Sağlık ocağına
D) Sağlık Bakanlığına
E) Raporun verildiği ilin Sağlık Müdürlüğüne

2. Ruh ve sinir hastalıkları muayenesine ilişkin sağlık durumlarından hangisinde kişiye sürücü belgesi verilir?

A) Sinir sistemi hastalıklarında hafif derece bozukluğu olanlara
B) Psikotrop maddelere bağımlı olanlara
C) Alkol bağımlılığı olanlara
D) Epilepsi hastası olanlara
E) Alkollü araç kullanmaktan vazgeçmeyenlere

3. Emniyet kemeri kullanımı, kazalar nedeniyle meydana gelen ölüm ve yaralanmaları yaklaşık yüzde kaç oranında azaltmaktadır?

A) 5-10
B) 15-20
C) 25-30
D) 40-50
E) 75-80

4. C sınıfı sürücü belgesi alacak kişilerin kaç yaşını bitirmiş olmaları gerekmektedir?

A) 20
B) 21
C) 22
D) 23
E) 24

5. Aşağıdakilerden hangisi sürücü kurslarında verilen derslerden biri değildir?

A) Trafik bilgisi
B) Ceza Kanunu bilgisi
C) Motor ve araç tekniği bilgisi
D) Çevre bilgisi
E) İlk yardım bilgisi

6. KGM 2005 verilerine göre, yayaların hangi kusurlu davranışı en çok kazaya sebep olmaktadır?

A) Yola birden çıkmak
B) Araçlara ilk geçiş hakkını vermemek
C) Yolda yürümek, oynamak
D) Duran aracın önünden ve arkasından çıkmak
E) Kırmızı ışıkta geçmek

7. Aşağıdaki sürücüye ait kusurlardan hangisinin kaza sayısı ve oranına etkisi diğerlerine göre daha azdır?

A) Kırmızı ışıklı trafik işaretinde veya görevli memurun dur işaretinde geçmek
B) Geçme yasağı olan yerlerden geçmek
C) Manevraları düzenleyen şartlara uymamak
D) Önde giden bir aracı güvenli ve yeterli mesafeden izlememek
E) Park etmiş araçlara çarpmak

8. Aşağıdakilerden hangisi yolculara ait kaza sebeplerinden biri değildir?

A) Taşıtın dışında seyahat etmek
B) Açık yük üzerinde seyir etmek
C) Kırmızı ışıkta geçmek
D) Taşıttan habersiz inmek
E) Taşıttan sarkmak

9. Sürücü adayları ve sürücüler aşağıdakilerden hangisi için sağlık kontrolünden geçmez?

A) Göme kaybı
B) İşitme kaybı
C) Ruh ve sinir hastalıkları
D) İç hastalıkları
E) Deri hastalıkları

10. Aşağıdakilerden hangisi, trafiğe çıkacak sürücülerin araçlarıyla ilgili dikkat etmesi gereken hususlardan biri değildir?

A) Dengesiz yük kullanılmaması
B) Aşırı yük kullanılması
C) Donanımlarının tam olması
D) Periyodik bakımlarının yapılmış olması
E) İmalat amaçlarına uygun kullanılması

B

2012 3D 0106-B

11. Trafik kazalarının en önemli nedeni aşağıdakilerden hangisidir?

- A) Araçların uygunsuz park edilmesi
- B) Yolların kusurlu olması
- C) Araçlara gerekli bakımın yapılmaması
- D) İnsanların trafik kurallarına uymaması
- E) Trafikteki araç sayısının fazla olması

12. Monoküler kişiler, aşağıdaki sürücü belgelerinden hangisini alabilir?

- A) B
- B) D
- C) E
- D) G
- E) H

13. Sırtüstü yatmış kazazedenin koltuk altlarından veya ceketinden kavranarak taşınmasına ne ad verilir?

- A) İtfaiyeci yöntemi
- B) Kucaklama yöntemi
- C) Çekme yöntemi
- D) Beşik yöntemi
- E) Omuzlama yöntemi

14. Aşağıdakilerden hangisi yaralıları tek başına taşıma yöntemlerinden biri değildir?

- A) Omuzlama yöntemi
- B) İtfaiyeci yöntemi
- C) Beşik yöntemi
- D) Çekme yöntemi
- E) Sandalye yöntemi

15. İlk yardım girişimlerinin temel amacı aşağıdakilerden hangisidir?

- A) Yaralıyı olay yerinden derhal uzaklaştırmak
- B) Yaralıya temel yaşam desteği sağlamak
- C) Yaralıya hastaneye gidene kadar gereken moral desteği sağlamak
- D) Polis gelene kadar yaralıyı hayatta tutmak
- E) Yaralının başka bir kazaya karışmasını engellemek

16. Aşağıdakilerden hangisi ilk yardım çantasında bulundurulması gereken malzemelerden biridir?

- A) Alüminyum yanık örtüsü
- B) Toplu iğne
- C) Çakı
- D) Tomavida
- E) Pens

17. Aşağıdakilerden hangisi kalp durmasının genel belirtilerinden biri değildir?

- A) Yüz ve başta olmak üzere vücutta morarmanın görülmesi
- B) Bilincin kaybolması
- C) Solunumun durması
- D) Görme ve işitmenin zayıflaması
- E) Ciltte terlemenin görülmesi

18. Uyukulu sürücüler için tavsiye edilen mola süresi yaklaşık kaç dakikadır?

- A) 5-10
- B) 10-15
- C) 15-45
- D) 45-60
- E) 60-85

19. I. Dikkatsiz davranmaları
II. Hızlı araba kullanmaları
III. Yorgun olmaları
IV. Aceleci olmaları

Yukarıdakilerden hangileri, sürücülerin kaza yapmalarına neden olan etkenlerdir?

- A) I ve II
- B) II ve III
- C) I, II ve III
- D) II, III, ve IV
- E) I, II, III ve IV

20. Karayolu üzerinde hareket halindeki en az bir aracın karıştığı kazalara ne ad verilir?

- A) Yol kazası
- B) Trafik kazası
- C) Yolcu kazası
- D) İş kazası
- E) Ev kazası

SEÇMELİ DİL VE ANLATIM 3

B

2012 3D 0106-B

1. Aşağıdakilerden hangisi tartışma kurallarından biri değildir?

- A) Tartışmanın kişiselliğe dökülmesi
- B) Konuşanların ilgiyle dinlenmesi, ortaya çıkan sonucun hoşgörüyü karşılanması
- C) Düşüncelerin açık, anlaşılır bir dille aktarılması
- D) Tartışma konusu dışına çıkmadan gerçeği, uygun ve yararlı olanı bulmaya çaba harcanması
- E) Konunun olumlu ve olumsuz yönlerinin, tartışma süresinin önceden belirlenmesi

2. Aşağıdakilerden hangisi, basın ve halk önünde gerçekleştirilen tartışma türlerinden biri değildir?

- A) Açık oturum
- B) Sempozyum
- C) Münazara
- D) Forum
- E) Panel

3. Aşağıdakilerden hangisiyle sunuma başlanmaz?

- A) Ayrılan süre içinde söz edilecekler
- B) Bir espri
- C) Yararlanılan kaynaklar
- D) Hazırlama amaçlı ön sorular
- E) Konuyla bağlantılı bir fıkra

4. Aşağıdakilerden hangisi sunumla ilgili yanlış bir ifadedir?

- A) Görsel-işitsel araçlara gerek yoktur.
- B) Bilgileri yeniler, pekiştirir.
- C) Modern iş ortamının iletişim prensibidir.
- D) Laboratuvar ve anket araştırmalarını ortaya koyar.
- E) Sunum öncesi izleyici hakkında bilgi toplanır.

5. Üyelerden bir ya da birkaçı tarafından bir sorunun çözümü için başkanlığa bildirilen görüşe ne ad verilir?

- A) Tebliğ
- B) Bildirge
- C) Öngörü
- D) Önerge
- E) Yönerge

6. Aşağıdakilerden hangisi sunum yaparken, daha çok 15-20 kişilik gruplar için kullanılan görsel-işitsel gereçlerden biridir?

- A) Çok yapraklı pano
- B) Yazı tahtası
- C) Projeksiyon aletleri
- D) Video
- E) Dia projeksiyon aletleri

7. "Panel" ile ilgili olarak aşağıdakilerden hangisi söylenemez?

- A) Toplumsal sorunların tartışılmasında sık uygulanan bir toplantı biçimi olduğu
- B) Yarışma havası yaratılmadığı
- C) Ortaya atılan düşüncelerin, verilen örneklerin doğru ve bilimsel değer taşıdığı
- D) Konuşmacı sayısının en az altı kişi olduğu
- E) Dinleyiciler önünde bir söyleşi havasında yapıldığı

8. Aşağıdakilerden hangisi tartışmaya katılan konuşmacılarla ilgili bir özellik olamaz?

- A) Doğal ve saygılı davranmak
- B) Hoşgörüyü elden bırakmamak
- C) Konuşma yeteneği gelişmiş olmak
- D) Konuyla ilgili donanımlı olmak
- E) Sürekli konuşmak

B

2012 3D 0106-B

9. Aşağıdaki cümlelerden hangisi birinci kişi anlatımına örnektir?

- A) Akşamın olduğu yerde bekle diyorsun.
- B) Güz gülleri gibiyim, hiç bahar yaşamadım.
- C) Yüksek yüksek tepelere ev kumasınlar.
- D) Telgrafın tellerine kuşlar mı konar?
- E) Sevinçli bir telaş içindeydiniz.

10. Aşağıdakilerden hangisi tartışma başkanının görevlerinden biri değildir?

- A) Gergin durumların oluşmasını önlemek
- B) Tartışma için uygun ortam yaratmak
- C) Tartışmanın konu dışına çıkmasını önlemek
- D) Belli kişilere çok söz hakkı vermek
- E) Konunun dinleyicilerce anlaşılmasını sağlamak

11. Aşağıdaki cümlelerin hangisinde anlatım bozukluğu yoktur?

- A) Doğru oturup eğri konuşalım, diyordu.
- B) Hayatının baharındaydı, ne yazık ki maalesef aramızdan ayrıldı.
- C) İhtiyar adam, iyi kötü geçinip gidiyordu.
- D) Kardeşinizi tanıyor ve güveniyoruz.
- E) Durup dinlenmeden altı saat süreyle çalışmışlar.

12. Aşağıdaki dizelerden hangisi birinci kişi anlatımına örnektir?

- A) Gitti gelmez bahar yeli.
- B) Anahtar Tanrı'da kaldı.
- C) Bütün bahçeler kilitli.
- D) Korkuyorum bu gecelerden.
- E) Şarkılar yarıda kaldı.

13. Bakmak ve görmek farklı şeylerdir.

Aşağıdaki deyimlerin hangisi baktığını görmeyen insanı niteler?

- A) Kör parmağım gözüne
- B) Kör değneğini beller gibi
- C) Bakar ki ne baksın
- D) Kör topal
- E) Bakar kör

14. Roman, öykü, masal gibi olay yazılarının özetinde aşağıdakilerden hangisi bulunmaz?

- A) Olayın geçtiği yer
- B) Olayın geçtiği zaman
- C) Olayın kahramanları
- D) Ana düşünce
- E) Yazarın hayatı

15. Aşağıdaki cümlelerin hangisi, dolaylı anlatıma örnek olabilir?

- A) Gözlerinde mavi bir menekşenin hüznü vardı.
- B) Bir gemi yanaştı sessiz limana.
- C) O, yeni bir şey için söz vermekten ısrarla kaçınıyordu.
- D) Dalgaların sesi bozdu bu büyüğü.
- E) Ta uzaklardan martıların çığlıkları duyuluyordu.

16. Aşağıdaki cümlelerin hangisinde anlatım bozukluğu vardır?

- A) Hiç kuşkusuz bu yasaları siz de bilirsiniz.
- B) Buna ancak genel müdür karar verir ve uygular.
- C) Yaptıklarını yeterli bulmuyor, eleştiriyor.
- D) Fikirlerinde ısrarlıydı ama inatçı değildi.
- E) İnsanları hep sevdi ve onlara hoşgörü ile bağlandı.

2012 3D 0106-B

17. Aşağıdaki cümlelerin hangisinde altı çizili sözcük cümleden çıkarılırsa anlam değişmez?

- A) Her akşam mutlaka telefon edip bize orada neler olduğunu anlatmalısın.
- B) Çok üzgünüm, bugün yine aramadı.
- C) Toplantıya sen de katıl.
- D) Bu problemi sadece Ali çözer.
- E) Günlerce ne aradı ne sordu.

18. Aşağıdaki cümlelerin hangisinde gereksiz sözcük kullanımından kaynaklanan bir anlatım bozukluğu vardır?

- A) Sanat, insanları birbirine yaklaştıran bir etkinliktir.
- B) Özgüven, bilek hakkıyla kazanılan erdemdir.
- C) Her sanat eseri, bir düşünceyi savunur.
- D) Her tür baskı, sanatın özgürlüğünü yok eder.
- E) Yazılı basının usta kalemlerinden birini daha yitirdik.

19. İstanbul, özellikle sonbaharda çok güzel oluyor. Yakmayan bir güneş, Boğaz'dan insanın yüzüne tatlı tatlı esen ılık bir rüzgâr, martıların çığlıkları, beyaz boyalı gemilerin motor sesleri... Topkapı surlarını, Kız Kulesi'ni seyrediyor bir yandan da çayımı yudumluyorum.

Paragrafın anlatım biçimi aşağıdakilerden hangisidir?

- A) Eleştirmeci
- B) Tartışmacı
- C) Örnekleyici
- D) Tanımlayıcı
- E) Betimleyici

20. Aşağıdakilerden hangisi bir tartışma konusu değildir?

- A) Yeterince kitap okuyor muyuz?
- B) Türkiye'nin Avrupa'da toprakları vardır.
- C) Televizyonun olumlu ve olumsuz yönleri nelerdir?
- D) Doğaya sahip çıkmak için neler yapmalıyız?
- E) Orman yangınları nasıl önlenebilir?

SEÇMELİ TÜRK EDEBİYATI 3

B

2012 3D 0106-B

1. İşgale uğrayan bir ülke ve savaş gibi önemli bir toplumsal olayı işleyen "Ateşten Gömlek" romanının yazarı, aşağıdakilerden hangisidir?

A) Hüseyin Rahmi Gürpınar
B) Orhan Şaik Gökyay
C) Halit Ziya Uşaklıgil
D) Halide Edip Adıvar
E) Ahmet Hamdi Tanpınar

2. Halk şiirinin unutulmaz ustasıdır. 17. yüzyılda Toroslar'da Türkmen aşiretleri arasında yaşamıştır. Şiirlerini dörtlük nazım birimiyle, hece ölçüsüyle saz eşliğinde söyledi.

Yukarıda tanıtılan ünlü halk ozanı, aşağıdakilerden hangisidir?

A) Köroğlu
B) Dadaloğlu
C) Pîr Sultan Abdal
D) Karacaoğlu
E) Aşık Veysel

3. "Orhun Yazıtları"yla ilgili olarak aşağıdakilerden hangisi söylenemez?

A) 720-735 yılları arasında yazıldığı
B) Türk dilinin en eski ve en değerli belgeleri olduğu
C) Göktürk alfabesiyle yazıldığı
D) Bilge Kağan ve Kül Tigin yazıtının Yollug Tigin tarafından kaleme alındığı
E) 19.yüzyıl sonunda Danimarkalı bilim adamı Andersen tarafından okunduğu

4. Aşağıdakilerden hangisi sözlü edebiyatın ürünlerinden biri değildir?

A) Sav
B) Gazel
C) Sagu
D) Destan
E) Koşuk

5. "Edebiyat tarihi" ile ilgili olarak aşağıdakilerden hangisi söylenemez?

A) Edebiyatın konusu içine giren eserleri ve sanatçıları alfabetik sırayla değerlendirdiği
B) Uygarlık tarihinin en önemli parçası olduğu
C) İnsanlık tarihinin başlangıçtan bugüne kadar geçirdiği duygu düşünce aşamalarını, sanat anlayışlarını bize aktardığı
D) Edebi eserlerle onların yaratıcılarını sosyal çevresi ile birlikte incelediği
E) Bir toplumun çağlar boyu geçirdiği sosyal, politik, ekonomik alandaki değişim ve gelişimini de gözler önüne serdiği

6. Türkiye'de tarih ve edebiyat tarihi incelemelerinde bilimsel yöntemleri ilk defa ortaya koyan, Türk edebiyatı tarihçiliğinin ilk araştırmacısı ve kurucusu, aşağıdakilerden hangisidir?

A) Nihat Sami Banarlı
B) Seyit Kemal Karaalioğlu
C) Ahmet Hamdi Tanpınar
D) Ağâh Sırrı Levent
E) Mehmet Fuad Köprülü

7. Türk'ün öz benliğini yansıtan, yüksek bir ahlâka dayanan, kahramanlık ruhumuzu coşkun bir deyişle dile getiren, sevgiden gücünü alan aile bağlarını eserin tamamında kök tem olarak sergileyen ulusal kültürümüzün baş eseri, aşağıdakilerden hangisidir?

A) Göktürk Yazıtları
B) Battal Gazi Destanı
C) Dede Korkut Hikâyeleri
D) Halk Hikayeleri
E) Danişment Gazi Destanı

8. Yurt dışına elçi olarak gönderilen kimselerin gördükleri yerlerle ilgili gezi, gözlem ve izlenimlerini anlattıkları eserlere ne ad verilir?

A) Vakayiname
B) Sefaretname
C) Seyahatname
D) Şikayetname
E) Selçukname

9. Balasagun yakınlarında bir şehir kuran hükümdar Şu'nun ilginç özelliklerinin, Büyük İskender'le yaptığı savaşların anlatıldığı "Şu Destanı" kime aittir?

A) Kırgızlara
B) Uygurlara
C) Göktürlere
D) Sakalara
E) Araplara

10. 1720 yıllarında yurtdışına elçi olarak gönderilen, gördüğü yerlerle ilgili gözlem ve izlenimlerini "Fransa Sefaretnamesi" adlı eseriyle tarihi bir belge niteliğinde sunan devlet adamı kimdir?

A) Süleyman Çelebi
B) Kâtip Çelebi
C) Yirmisekiz Mehmet Çelebi
D) Mercimek Ahmet
E) Sinan Paşa

B

2012 3D 0106-B

11. Uruk Kralı Gılgamış ile arkadaşı Enkidu'nun ölümsüz öyküsünün anlatıldığı "Gılgamış Destanı"ndan esinlenerek "Tanrılar ve İnsanlar" adlı oyunu kaleme alan yazar, aşağıdakilerden hangisidir?

A) Melih Cevdet Anday
B) Orhan Asena
C) Turan Oflazoğlu
D) Cahit Atay
E) Orhan Kemal

12. İslâmlıktan önceki dönemde yuğ törenlerinde bir kağanın, bir kahramanın ölümüne duyulan üzüntüyü ifade eden, ölen kişinin niteliklerini dile getiren, kopuz eşliğinde söylenen şiirlere ne ad verilir?

A) Destan
B) Sagu
C) Koşuk
D) Sav
E) Koşma

13. Aşağıdakilerden hangisi en eski Türk destanıdır?

A) Göç Destanı
B) Ergenekon Destanı
C) Yaratılış Destanı
D) Türeyiş Destanı
E) Bozkurt Destanı

14. İçinde destan, sav, sagu, koşuk örneklerinin de bulunduğu ansiklopedik sözlük Divân-ı Lûgatî't Türk'ün yazarı kimdir?

A) Kaşgarlı Mahmut
B) Ahmet Yesevî
C) Edip Ahmet
D) Nailî Kadim
E) Yunus Emre

15. Aşağıdakilerden hangisi edebiyat tarihçerimizden biri değildir?

A) Mehmet Fuad Köprülü
B) Ahmet Hamdi Tanpınar
C) Nihat Sami Banarlı
D) Yahya Kemal Beyatlı
E) Vasfi Mahir Kocatürk

16. Aşağıdakilerden hangisi İslamiyetten sonraki Türk destanlarından biridir?

A) Timur Destanı
B) Atilla Destanı
C) Oğuz Kağan Destanı
D) Göç Destanı
E) Türeyiş Destanı

17. Yunan edebiyatının ünlü doğal destanları "İlyada ve Odysseia"yı kaleme alan millî destan şairi kimdir?

A) Sophokles
B) Ariosto
C) Homeros
D) Eflâtun
E) Milton

18. Ne keder ne yas olur
Çakıllar elmas olur
Bir kadeh bir tas olur
Yıldızların altında

Yukarıdaki şiirle ilgili olarak aşağıdakilerden hangisi söylenemez?

A) Dört dizeden oluştuğu
B) 7'li hece ölçüsüyle yazıldığı
C) aaab şeklinde uyaklandığı
D) "olur" sözcüğünün redif olduğu
E) Kişileştirme yapıldığı

19. "Biş ernek tüz ermes." (Beş parmak düz olmaz).

Yukarıdaki sav örneğine en uygun atasözü aşağıdakilerden hangisidir?

A) Beş parmağın hangisini kessen acımaz?
B) Cefayı çekmeyen sefayı bilemez.
C) Hayırsız dost gereksiz post.
D) Ağaç yaşken eğilir.
E) Bir ağaçta gül de biter diken de.

20. Halk edebiyatında ölen kişinin ardından onun yiğitliklerini, iyiliklerini ve erdemlerini anlatan şiirlere ne ad verilir?

A) Ağıt
B) Koşuk
C) Sav
D) Güzelleme
E) Koçaklama

GİRİŞİMCİLİK 1

B

2012 3D 0106-B

1. Torna tezgahı ve tekstil tezgahı gibi mallar aşağıdakilerden hangisinin kapsamında yer alır?

- A) Hammadde
- B) İşletme gereçleri
- C) Yardımcı araçlar
- D) Yatırım donatım malları
- E) Üretim gereçleri

2. Aşağıdakilerden hangisi müteşebbisin işlevlerinden biri değildir?

- A) Daha iyiyi daha ucuza üretmek
- B) Yeni pazarları keşfetmek
- C) Rekabeti azaltmak
- D) Yeni girdi kaynakları bulmak
- E) Bilinen ürünleri daha da geliştirmek

3. Nakit para, fabrika, makine ve teçhizat aşağıdaki üretim faktörlerinden hangisinin kapsamında yer alır?

- A) Doğal kaynaklar
- B) Tabiat
- C) Emek
- D) Müteşebbis
- E) Sermaye

4. Giderleri özel gelirleri ile karşılanan ve genel bütçe dışında yürütülen kamu kuruluşlarına ne ad verilir?

- A) Döner sermayeli işletmeler
- B) Yerel yönetimlere bağlı işletmeler
- C) Katma bütçeli kuruluşlar
- D) Özel bütçeli devlet işletmeleri
- E) Sosyal güvenlik kurumlarına bağlı işletmeler

5. Aşağıdakilerden hangisi müteşebbisin kişisel özellikleri arasında yer almaz?

- A) Riskten kaçmak
- B) Planlama yapmak
- C) Önder olmak
- D) Uyumlu olmak
- E) Kendine güvenmek

6. Maslow'un ihtiyaçlar hiyerarşisinde insanın doğuşundan itibaren başlayan vazgeçilmez ihtiyaçlara ne ad verilir?

- A) Fizyolojik ihtiyaçlar
- B) Güvenlik ihtiyaçları
- C) Sevgi ve ait olma ihtiyacı
- D) Saygı görme ihtiyacı
- E) Başarma ihtiyacı

7. Aşağıdakilerden hangisi işletmenin genel amaçları içinde yer alır?

- A) Tüketicide iyi izlenim yaratmak
- B) İş güvenliği
- C) Kâr elde etmek
- D) Düşük maliyet
- E) Hizmet kalitesini artırmak

8. Mal ve hizmetlerin ihtiyaçları giderme özelliğine ne ad verilir?

- A) Kaynak
- B) Talep
- C) Üretim
- D) Fayda
- E) Tüketim

9. Aşağıdakilerden hangisi iktisadi devlet teşekkülleri arasında yer almaz?

- A) Boru Hatları ile Petrol Taşıma A.Ş
- B) Toprak Mahsulleri Ofisi
- C) Devlet Malzeme Ofisi
- D) Tarım Kredi Kooperatifi
- E) Türkiye Kömür İşletmeleri

10. Neyin, nasıl, ne zaman, nerede üretileceğine karar veren, bunun için gerekli tüm çalışmaları yapan kişi ya da kişilere ne ad verilir?

- A) Sermayedar
- B) Patron
- C) Lider
- D) İşveren
- E) Girişimci

B

2012 3D 0106-B

11. Kâr amacı ile üretilen mal ve hizmetlerin tüketicilere ulaştırılması için yapılan devamlı ve düzenli etkinliklere ne ad verilir?

- A) Pazarlama
- B) Ticaret
- C) Reklam
- D) Dağıtım
- E) Satış

12. En eski ve en etkin satış yöntemi aşağıdakilerden hangisidir?

- A) Fuarlara katılma
- B) Televizyon reklamları
- C) Kişisel satış
- D) Katalog bastırma
- E) Sergi

13. Aynı konuda çalışan iki işletmenin ortak çıkar doğrultusunda alanlarında tekel oluşturmak için bir araya gelmesiyle oluşan antlaşmalara ne ad verilir?

- A) Holding
- B) Merger
- C) Tröst
- D) Konsorsiyum
- E) Kartel

14. Aşağıdakilerden hangisi satış elemanının görevleri arasında yer almaz?

- A) Tanıtım yapmak
- B) Üretim teknolojisini belirlemek
- C) İsteği talebe dönüştürmek
- D) Tüketici ile iletişim
- E) Sipariş almak

15. Bir unvana sahip, ana sermayesi belli ve paylara bölünmüş olan, borçlarından dolayı yalnız varlıkları ile sorumlu bulunan şirketlere ne ad verilir?

- A) Komandit şirket
- B) Kooperatif
- C) Limitet şirket
- D) Anonim şirket
- E) Kolektif şirket

16. Aşağıdakilerden hangisi pazarlama karması elemanlarından biri değildir?

- A) Tutundurma
- B) Tüketici
- C) Fiyat
- D) Dağıtım
- E) Ürün

17. Aşağıdakilerden hangisi işletmenin iç çevresi içinde yer alır?

- A) Rakipler
- B) Tüketiciler
- C) Meslek örgütleri
- D) Sendikalar
- E) Personel

18. Pazarlama etkinliklerinin ilk aşaması aşağıdakilerden hangisidir?

- A) Satış sonrası müşteri tatmininin araştırılması
- B) Gereksinimlerin belirlenmesi
- C) Mal ve hizmetlerin niteliklerinin belirlenmesi
- D) Fiyatın belirlenmesi
- E) Dağıtımın gerçekleştirilmesi

19. Limitet şirketlerde ortak sayısı en az kaç kişidir?

- A) 2
- B) 3
- C) 4
- D) 5
- E) 6

20. Aşağıdakilerden hangisi yönetimin temel işlevleri arasında yer almaz?

- A) Pazarlama
- B) Denetim
- C) Planlama
- D) Koordinasyon
- E) Organizasyon

Bu testin cevaplarını, cevap anahtarında YABANCI DİL 7 sütununa işaretleyiniz.

1. A: Wie dein Lieblingssänger?
B: Lieblingssänger heißt Tarkan.

Welches ergänzt die Lücken im obigen Dialog?

Verilen karşılıklı konuşmada boş bırakılan yerleri aşağıdakilerden hangisi tamamlar?

- A) kennst / Dein
B) heißt / Mein
C) schreibst / Meine
D) singt / Deine
E) hört / Mir

2. Ein Bär ist

Welches ergänzt die Lücke im obigen Satz?

Verilen cümleyi aşağıdakilerden hangisi tamamlar?

- A) groß und kräftig.
B) lang und leicht.
C) schwer aber klein.
D) schnell aber schwach.
E) langsam aber laut.

3. Er spielt Saxophon.

Welche Frage paßt zur obigen Antwort?

Verilen cevabı gerektirecek soru aşağıdakilerden hangisidir?

- A) Womit machen Sie Musik?
B) Woher hast du dieses Instrument?
C) Welches Instrument spielt Thorsten?
D) Können Sie ein Instrument spielen?
E) Hast du ein Instrument?

4. Was bedeutet mit der Hand winken?

Welche Antwort paßt zur obigen Frage?

Verilen sorunun cevabı aşağıdakilerden hangisidir?

- A) Es bedeutet sie hat Kopfschmerzen.
B) Hier darf man nicht sprechen.
C) Dann müssen alle Kinder leise sein.
D) Es bedeutet auf Wiedersehen sagen.
E) Jeder muss vorsichtig sein.

5. kannst du die Prüfung bestehen.

Welches ergänzt die Lücke im obigen Satz?

Verilen cümleyi aşağıdakilerden hangisi tamamlar?

- A) Wenn du viel übst
B) Wenn wir Musik hören
C) Als wir heute in die Schule gingen
D) Falls er seine Hausaufgaben macht
E) Ob wir diese Tiernamen gelernt haben

6. Das Auto steht dem Haus.

Welches Wort paßt in die obige Lücke?

Cümlede boş bırakılan yeri aşağıdakilerden hangisi doğru şekilde tamamlar?

- A) über
B) in
C) aus
D) zwischen
E) vor

2012 3D 0106-B

7. Der Mann und die Frau sitzen heute im Haus.

Welches Wort paßt in die obige Lücke?

Cümlede boş bırakılan yeri aşağıdakilerden hangisi doğru şekilde tamamlar?

- A) ausserhalb
- B) innerhalb
- C) draussen
- D) drinnen
- E) aussen

8. Worüber sprechen die Schüler?

Welches hat die gleiche Bedeutung mit dem obigen Satz?

Verilen cümle ile aynı anlamı taşıyan aşağıdakilerin hangisidir?

- A) Über welche Prüfung sprechen die Kinder?
- B) Wie unterhalten sich die Schüler?
- C) Was sagt der Schüler?
- D) Über was diskutieren die Schüler?
- E) Wann gehen die Schüler zur Schule?

9. Die Studenten eine Klassenfahrt nach Antalya .

Welches Wort paßt in die obige Lücke?

Cümlede boş bırakılan yeri aşağıdakilerden hangisi doğru şekilde tamamlar?

- A) tragen
- B) hören
- C) planen
- D) sagen
- E) fahren

10. Was bedeutet "sunmak" auf deutsch?

"sunmak" sözcüğünün Almancası aşağıdakilerden hangisidir?

- A) entdecken
- B) aussprechen
- C) nachschlagen
- D) wiederholen
- E) präsentieren

11. Fatma in der Türkei.

Welches Wort paßt in die obige Lücke?

Cümlede boş bırakılan yeri aşağıdakilerden hangisi doğru şekilde tamamlar?

- A) kommt
- B) sieht
- C) lebt
- D) sitzt
- E) liegt

12. Wie lautet das Singular von "die Körper"?

"die Körper" sözcüğünün tekil hali aşağıdakilerden hangisidir?

- A) Eine Körper
- B) Das Körper
- C) Eines Körpers
- D) Die Körper
- E) Der Körper

13. kann nicht laufen, sondern schleichen.

Welches Wort paßt in die obige Lücke?

Cümlede boş bırakılan yeri aşağıdakilerden hangisi doğru şekilde tamamlar?

- A) Ein Tiger
- B) Eine Schlange
- C) Eine Schildkröte
- D) Ein Pferd
- E) Eine Maus

14. Ein Bund Petersilien.

Wie lautet der obige Satz auf türkisch?

Verilen cümlelerin Türkçesi aşağıdakilerden hangisidir?

- A) Bir demet maydanoz.
- B) Bir bağ dereotu.
- C) Bir çeşit mantar.
- D) Bir yaprak marul.
- E) Bir tutam karabiber.

2012 3D 0106-B

15. Ich am Sonntag mit meinen Freunden im Wald.

Welches Wort paßt in die obige Lücke?

Cümlede boş bırakılan yeri aşağıdakilerden hangisi doğru şekilde tamamlar?

- A) springe
- B) schneide
- C) wandere
- D) schwimmen
- E) mische

16. Machst du Sport oder mit deinen Freunden?

Welches Wort paßt in die obige Lücke?

Cümlede boş bırakılan yeri aşağıdakilerden hangisi doğru şekilde tamamlar?

- A) jeden
- B) selten
- C) kein
- D) allein
- E) gleich

17. Das Kind möchte eine Mütze kaufen.

Welches Wort paßt in die obige Lücke?

Cümlede boş bırakılan yeri aşağıdakilerden hangisi doğru şekilde tamamlar?

- A) sind
- B) sich
- C) fast
- D) dich
- E) mich

18. Welche Familienfeste werden in der Türkei gefeiert?

Welche Antwort paßt zur obigen Frage?

Verilen sorunun cevabı aşağıdakilerden hangisidir?

- A) In der Türkei werden Familienfeste gefeiert, wenn jemand Geburtstag hat.
- B) Ich habe ein Geschenk für meine Schwester gekauft.
- C) Es gibt auch religiöse Feste, die gefeiert werden müssen.
- D) In der Türkei sind alle glücklich, wenn das Zuckerfest gefeiert wird.
- E) Es gibt viele Ähnlichkeiten und Unterschiede zwischen den Festen.

19. Die Tomate / der Paprika / der Kopfsalat / das Omelett / der Pilz

Welches Wort paßt nicht zu den anderen in der obigen Wortgruppe?

Verilen sözcük grubuna uymayan aşağıdakilerden hangisidir?

- A) Der Pilz
- B) Die Tomate
- C) Der Kopfsalat
- D) Der Paprika
- E) Das Omelett

20. Wenn die Wortenden in zwei Zeilen am Ende eines Satzes gleich sind, wie z.B. Tag und Sag, dann ist es ein

Welches Wort paßt in die obige Lücke?

Cümlede boş bırakılan yeri aşağıdakilerden hangisi doğru şekilde tamamlar?

- A) Ton
- B) Reim
- C) Lied
- D) Klang
- E) Stück

FRANSIZCA 7

B

2012 3D 0106-B

**Bu testin cevaplarını, cevap anahtarında
YABANCI DİL 7 sütununa işaretleyiniz.**

1. Elle est de sa maison à sept heures du matin.

Choisissez le mot qui convient.

Cümledeki boşluğu aşağıdakilerden hangisi doğru şekilde tamamlar?

- A) sort
- B) sortie
- C) sortent
- D) sortez
- E) sors

2. Je voudrais payer espèces.

Choisissez le mot qui convient.

Cümledeki boşluğu aşağıdakilerden hangisi doğru şekilde tamamlar?

- A) en
- B) par
- C) dans
- D) pour
- E) au

3. C'est lui parle toute la soirée.

Choisissez le mot qui convient.

Cümledeki boşluğu aşağıdakilerden hangisi doğru şekilde tamamlar?

- A) où
- B) que
- C) qui
- D) dans
- E) donc

4. Nous allons à l'école métro.

Choisissez le mot qui convient.

Cümledeki boşluğu aşağıdakilerden hangisi doğru şekilde tamamlar?

- A) dans
- B) au
- C) par
- D) en
- E) comme

5. pas / d'alcool / beaucoup / prenez / ne
I II III IV V

Mettez dans le bon ordre.

Yukarıdaki kelimelerin anlamlı bir bütün oluşturan sırası aşağıdakilerin hangisinde doğru olarak verilmiştir?

- A) V, IV, I, III, II
- B) V, IV, III, II, I
- C) IV, V, I, II, III
- D) IV, III, II, V, I
- E) IV, I, V, II, III

6. Je n'ai rien compris.

Choisissez la traduction qui convient.

Yukarıdaki cümlelerin Türkçe karşılığı aşağıdakilerden hangisidir?

- A) Hiç zamanım yok.
- B) Hiçbirini tanımıyorum.
- C) Hiçbir şey söylemedim.
- D) Hiç kimseyi görmedim.
- E) Hiçbir şey anlamadım.

7. du sport pour être en bonne santé.

Choisissez le mot qui convient.

Cümledeki boşluğu aşağıdakilerden hangisi doğru şekilde tamamlar?

- A) Ouvrez
- B) Payez
- C) Soyez
- D) Faites
- E) Signez

B

2012 3D 0106-B

8. Elle est contente tous ses professeurs.

Choisissez le mot qui convient.

Cümledeki boşluğu aşağıdakilerden hangisi doğru şekilde tamamlar?

- A) au
B) chaque
C) chez
D) de
E) personne

9. Je ne fume plus.

Choisissez la traduction qui convient.

Yukarıdaki cümlelerin Türkçe karşılığı aşağıdakilerden hangisidir?

- A) Hiç sigara kullanmadım.
B) Sigarayı bıraktım.
C) Artık sigara içmiyorum.
D) Eskiden sigara içtim.
E) Sigarayı bırakamıyorum.

10. Les films d'action; je(j') trouve triste.

Choisissez le mot qui convient.

Cümledeki boşluğu aşağıdakilerden hangisi doğru şekilde tamamlar?

- A) lui
B) y
C) la
D) en
E) les

11. Voudriez-vous rappeler plus tard?

Choisissez la traduction qui convient.

Yukarıdaki cümlelerin Türkçe karşılığı aşağıdakilerden hangisidir?

- A) Sizi aramamızı ister misiniz?
B) Daha önce aradınız mı?
C) Daha sonra yine arar mısınız?
D) Daha sonra sizi arayacaklar mı?
E) Bir kaç dakika içinde telefon eder misiniz?

12. A - Excusez-moi, vous avez l'heure?
B -
A - Je vous demande si vous avez l'heure.
B - Ah oui, il est dix heures et demie.
A - Merci.

Choisissez l'expression qui convient.

Yukarıdaki konuşmada boş bırakılan yeri aşağıdakilerden hangisi doğru şekilde tamamlar?

- A) Quoi de neuf?
B) C'est de la part de qui?
C) C'est ça?
D) Tu vois?
E) Pardon?

13. A - Je veux acheter un sac.
B -
A - Elle dit qu'elle veut acheter un sac.

Choisissez l'expression qui convient.

Yukarıdaki konuşmada boş bırakılan yeri aşağıdakilerden hangisi doğru şekilde tamamlar?

- A) Comment va-t-elle?
B) Qu'est-ce qu'elle dit?
C) Quel est votre choix?
D) Est-ce qu'elle aime acheter?
E) Où est-ce qu'elle va?

14. - livre voulez-vous acheter?
- Celui-ci.

Choisissez le mot qui convient.

Yukarıdaki konuşmada boş bırakılan yeri aşağıdakilerden hangisi doğru şekilde tamamlar?

- A) Lequel
B) Laquelle
C) Lesquels
D) Quelle
E) De quoi

2012 3D 0106-B

15. La réunion est 20 janvier.

Choisissez le mot qui convient.**Cümledeki boşluğu aşağıdakilerden hangisi doğru şekilde tamamlar?**

- A) au
- B) en
- C) le
- D) y
- E) de la

16. - Vous avez changé de style vestimentaire?
 - Non, pas de

Choisissez le mot qui convient.**Yukarıdaki konuşmada boş bırakılan yeri aşağıdakilerden hangisi doğru şekilde tamamlar?**

- A) changeur
- B) changer
- C) changeable
- D) changement
- E) changé

17. J'en ai marre ce vieux ordinateur!

Choisissez le mot qui convient.**Cümledeki boşluğu aşağıdakilerden hangisi doğru şekilde tamamlar?**

- A) qui
- B) de
- C) car
- D) de la
- E) pour

18. Je voudrais parler M. Doisneau s'il vous plaît.

Choisissez le mot qui convient.**Cümledeki boşluğu aşağıdakilerden hangisi doğru şekilde tamamlar?**

- A) à
- B) est
- C) en
- D) lui
- E) qui

19. Si tu es malade, tu te reposer.

Choisissez le mot qui convient.**Cümledeki boşluğu aşağıdakilerden hangisi doğru şekilde tamamlar?**

- A) bien
- B) vais
- C) as
- D) malade
- E) dois

20. Le chat de Mme Perrin est perdu. Elle est donc

Choisissez le mot qui convient.**Cümledeki boşluğu aşağıdakilerden hangisi doğru şekilde tamamlar?**

- A) peur
- B) triste
- C) joyeuse
- D) content
- E) colère

İNGİLİZCE 7

B

2012 3D 0106-B

**Bu testin cevaplarını, cevap anahtarında
YABANCI DİL 7 sütununa işaretleyiniz.**

1. If it, I will wear my raincoat.

Which of the following completes the sentence above?

Aşağıdakilerden hangisi yukarıdaki cümleyi doğru olarak tamamlar?

- A) rained
- B) rains
- C) rain
- D) was raining
- E) would rain

2. Brenda had justher homework when the phone rang.

Which of the following completes the sentence above?

Aşağıdakilerden hangisi yukarıdaki cümleyi doğru olarak tamamlar?

- A) finished
- B) finishing
- C) finish
- D) has finished
- E) was finish

3. I was late for school. I took a taxi.

Which of the following completes the sentence above?

Aşağıdakilerden hangisi yukarıdaki cümleyi doğru olarak tamamlar?

- A) So
- B) Such
- C) As
- D) As soon as
- E) So that

4. He said, "There has never been a library in the town".
He said that there a library in the town.

Which of the following completes the sentence above?

Aşağıdakilerden hangisi yukarıdaki cümleyi doğru olarak tamamlar?

- A) could never be
- B) would never be
- C) will never be
- D) had never been
- E) has never been

5. I had never pizza until I to Italy.

Which of the following completes the sentence above?

Aşağıdakilerden hangisi yukarıdaki cümleyi doğru olarak tamamlar?

- A) eaten / went
- B) ate / am going
- C) eat / go
- D) ate / gone
- E) eat / went

6. My mother had prepared the lunch when we came from school.

Which of the following completes the sentence above?

Aşağıdakilerden hangisi yukarıdaki cümleyi doğru olarak tamamlar?

- A) since
- B) for
- C) ever
- D) yet
- E) already

B

2012 3D 0106-B

7. Jane is going to have an exam tomorrow. So, she go to bed early.

Which of the following completes the sentence above?

Aşağıdakilerden hangisi yukarıdaki cümleyi doğru olarak tamamlar?

- A) would
- B) should have
- C) have
- D) should
- E) ought

8. Mary : How money is there in the wallet?
Jill : There is a little.

Which of the following completes the dialogue above?

Aşağıdakilerden hangisi yukarıdaki konuşmayı doğru olarak tamamlar?

- A) some
- B) many
- C) any
- D) much
- E) more

9. Jack his house by the end of this week.

Which of the following completes the sentence above?

Aşağıdakilerden hangisi yukarıdaki cümleyi doğru olarak tamamlar?

- A) moved
- B) be moved
- C) will have moved
- D) was moving
- E) moving

10. The students have been studying 8 o'clock.

Which of the following completes the sentence above?

Aşağıdakilerden hangisi yukarıdaki cümleyi doğru olarak tamamlar?

- A) for
- B) after
- C) ago
- D) last
- E) since

11. The policeman asked, "Are you a student?" He asked me if I a student.

Which of the following completes the sentence above?

Aşağıdakilerden hangisi yukarıdaki cümleyi doğru olarak tamamlar?

- A) be
- B) is
- C) was
- D) were
- E) have been

12. Sam : It's my brother's birthday tomorrow. What shall I buy him?
Paul : Well, you buy him a watch.

Which of the following completes the dialogue above?

Aşağıdakilerden hangisi yukarıdaki konuşmayı doğru olarak tamamlar?

- A) could have
- B) will
- C) must have
- D) ought
- E) could

13. Ann : Where was Mr. Stone yesterday?
Sue : I don't know. He been at the meeting.

Which of the following completes the dialogue above?

Aşağıdakilerden hangisi yukarıdaki konuşmayı doğru olarak tamamlar?

- A) must
- B) might have
- C) can
- D) will have
- E) would

14. Tony : Excuse me, I borrow your dictionary?
Liz : Certainly.

Which of the following completes the dialogue above?

Aşağıdakilerden hangisi yukarıdaki konuşmayı doğru olarak tamamlar?

- A) may
- B) could
- C) have
- D) must
- E) should

2012 3D 0106-B

15. Ken : Are you a teacher?
Sandy : Yes, I am.
Bob : What does Ken want to know?
Sandy : He wants to know if I a teacher.

Which of the following completes the dialogue above?

Aşağıdakilerden hangisi yukarıdaki konuşmayı doğru olarak tamamlar?

- A) had been
- B) were
- C) am
- D) have been
- E) will be

16. She has been living in New York two years.

Which of the following completes the sentence above?

Aşağıdakilerden hangisi yukarıdaki cümleyi doğru olarak tamamlar?

- A) before
- B) since
- C) ago
- D) for
- E) from

17. Tom : Here is Sandy. Ask her if you could use her pen.
Sue : I use your pen Sandy?
Sandy : Certainly.

Which of the following completes the dialogue above?

Aşağıdakilerden hangisi yukarıdaki konuşmayı doğru olarak tamamlar?

- A) Do
- B) Can
- C) Was
- D) Does
- E) Did

18. Tom arrived at the airport, the plane had already left.

Which of the following completes the sentence above.

Aşağıdakilerden hangisi yukarıdaki cümleyi doğru olarak tamamlar?

- A) When
- B) Which
- C) Where
- D) While
- E) That

19. Dean said, "I bought a new car yesterday."
Dean said that he had bought a new car

Which of the following completes the sentence above?

Aşağıdakilerden hangisi yukarıdaki cümleyi doğru olarak tamamlar?

- A) that day
- B) then
- C) the next day
- D) before
- E) the day before

20. Sam : How apples are there in the basket?
Jim : There are a few.

Which of the following completes the dialogue above?

Aşağıdakilerden hangisi yukarıdaki konuşmayı doğru olarak tamamlar?

- A) more
- B) many
- C) any
- D) much
- E) some

FİZİK 4

B

2012 3D 0106-B

1. ve 2. sorular aşağıdaki bilgilere göre cevaplandırılacaktır.

10 kg kütleli bir cisim yatay bir zemin üzerinde 20 N luk yatay bir kuvvetle 25 m çekilmiştir

1. Bu bilgilere göre, kuvvetin yaptığı iş kaç J dır?

- A) 100
- B) 200
- C) 300
- D) 400
- E) 500

2. Yukarıdaki bilgilere göre, cismin hızı kaç m/s dir?

- A) 5
- B) 10
- C) 15
- D) 20
- E) 25

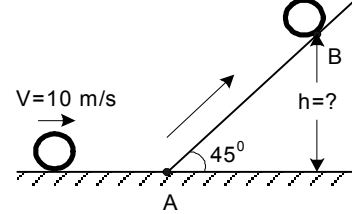
3. Yatay bir yolda 40 m/s sabit bir hızla gitmekte olan 1.200 kg kütleli bir otomobil fren yapmış ve düzgün yavaşlayarak 160 m yol alarak durmuştur. Buna göre, otomobilin fren kuvveti kaç N dur?

- A) 4.000
- B) 4.800
- C) 5.400
- D) 6.000
- E) 6.600

4. 2 kg kütleli bir cismin, zıt yönlü 12 N ve 6 N'luk iki kuvvetin etkisi altında kazanacağı ivme kaç N/kg dır?

- A) 2
- B) 3
- C) 6
- D) 8
- E) 9

5 - 7. sorular aşağıdaki bilgilere göre cevaplandırılacaktır.



Yukarıdaki şekilde, 1 kg kütleli içi boş bir silindir sürtünmesiz yatay bir düzlemde 10 m/s sabit hızla yuvarlanarak A noktasına gelmiş daha sonrada B noktasına kadar çıkmıştır.

5. Bu bilgilere göre, cismin A noktasındaki kinetik enerjisi kaç J dır?

- A) 10
- B) 50
- C) 100
- D) 200
- E) 1.000

6. Yukarıdaki bilgilere göre, eğik düzlemde çıktığı son noktanın (B), yatay düzlemden yüksekliği (h) kaç metredir? (g=10 N/kg)

- A) 5
- B) 6
- C) 8
- D) 10
- E) 12

7. Yukarıdaki bilgilere göre, silindirin eğik düzlemde aldığı yol (AB noktaları arası) kaç

metredir? ($l=mr^2$, $\sin 45^\circ = \frac{\sqrt{2}}{2}$)

- A) $\sqrt{2}$
- B) $2\sqrt{2}$
- C) $5\sqrt{2}$
- D) $10\sqrt{2}$
- E) $20\sqrt{2}$

B

2012 3D 0106-B

8. Yay sabiti 2.000 N/m olan bir yayda 40 J'lük bir potansiyel enerjiyi depolayabilmek için, yay kaç metre sıkıştırılmalı ya da gerilmelidir?

A) 0,1
B) 0,2
C) 0,3
D) 0,4
E) 0,5

9. Yatay bir düzlemde hareketsiz bir cisme, düzleme paralel 200 N luk sabit bir kuvvet etki ettirilerek cismin 5 m yer değiştirmesi sağlanmıştır. Buna göre yapılan iş kaç J dır? (Sürtünmeler önemsizdir.)

A) 8
B) 40
C) 100
D) 205
E) 1.000

10. I. Kinetik sürtünme kuvveti
II. Dinamik sürtünme kuvveti
III. Statik sürtünme kuvveti

Yukarıdakilerden hangileri sürtünme kuvvetleri arasında yer almaz?

A) Yalnız II
B) Yalnız III
C) I ve II
D) I ve III
E) II ve III

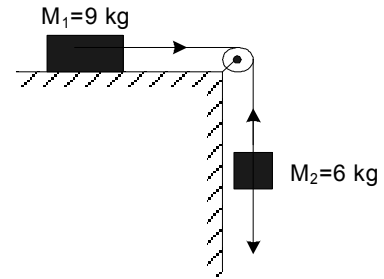
11. 5 m yükseklikten bırakılan bir cismin yere çarptığı andaki hızı kaç m/s dir? ($g=10 \text{ m/s}^2$)

A) 2
B) 5
C) 10
D) 50
E) 100

12. Cisimlerin hareketinden dolayı sahip oldukları enerjiye ne ad verilir?

A) Kinetik enerji
B) Statik enerji
C) Dinamik enerji
D) Kurtulma enerjisi
E) Potansiyel enerji

13. ve 14. sorular aşağıdaki şekle göre cevaplandırılacaktır.



13. Yukarıdaki şekilde verilen, sürtünmesiz sistemin ivmesi kaç m/s^2 dir? ($g=10 \text{ m/s}^2$)

A) 2
B) 3
C) 4
D) 5
E) 6

14. Yukarıdaki bilgilere göre, ipteki gerilme kuvveti kaç N dur?

A) 18
B) 24
C) 28
D) 32
E) 36

2012 3D 0106-B

15. İç yarıçapı $r_1=0,3$ m, dış yarıçapı $r_2=0,5$, kütlesi 200 kg olan ve saniyede 2 devir yapan bir değirmen taşının eylemsizlik momenti kaç

kg.m^2 dir? ($I=\frac{1}{2}.m.(r_1^2+r_2^2)$)

- A) 200
B) 340
C) 480
D) 620
E) 800

16. 20 metre yükseklikten yere düşen 2 kg kütleli bir cismin yere çarptığı andaki hızı kaç m/s dir? ($g=10 \text{ m/s}^2$)

- A) 5
B) 10
C) 20
D) 40
E) 80

17. Toplam kütlesi 400 kg, gücü 80.000 W olan bir asansörün 20 metre yukarıya çıkabilmesi için gereken süre kaç saniyedir? ($g=10 \text{ m/s}^2$)

- A) 1
B) 2
C) 3
D) 4
E) 5

18. 500 gram kütleli bir demir parçasının sıcaklığını 80°C 'tan 30°C 'a düşürmek için demir parçasından alınması gereken ısı miktarı kaç kalordir? ($c_{\text{demir}}=0,11 \text{ cal/g}^\circ\text{C}$)

- A) 2.000
B) 2.250
C) 2.500
D) 2.750
E) 3.000

19. ve 20. sorular aşağıdaki bilgilere göre cevaplandırılacaktır.

Yatay bir düzlemde durmakta olan 6 kg kütleli bir cisim 15 N luk yatay ve sabit bir kuvvetle çekilmektedir. ($g=10 \text{ N/kg}$)

19. Bu bilgilere göre, cisim 5 saniyede 25 m yer değiştirdiğine göre, cismin ivmesi kaç m/s^2 dir?

- A) 2
B) 3
C) 4
D) 5
E) 6

20. Yukarıdaki bilgilere göre, cisimle yüzey arasındaki sürtünme katsayısı kaçtır?

- A) 0,01
B) 0,02
C) 0,03
D) 0,04
E) 0,05

SEÇMELİ ALMANCA 7

B

2012 3D 0106-B

Bu testin cevaplarını, cevap anahtarında SEÇMELİ YABANCI DİL 7 sütununa işaretleyiniz.

1. Was bedeutet "keyif" auf deutsch?

"keyif" sözcüğünün Almancası aşağıdakilerden hangisidir?

- A) Die Ideen
- B) Der Weg
- C) Die Löffel
- D) Die Laune
- E) Der Spiegel

2. Ein Bär ist

Welches ergänzt die Lücke im obigen Satz?

Verilen cümleyi aşağıdakilerden hangisi tamamlar?

- A) langsam aber laut.
- B) schnell aber schwach.
- C) schwer aber klein.
- D) groß und kräftig.
- E) lang und leicht.

3. Das Glück verdoppelt sich,

Welches ergänzt die Lücke im obigen Satz?

Verilen cümleyi aşağıdakilerden hangisi tamamlar?

- A) wenn man es teilt.
- B) wenn wir Hunger haben.
- C) warum wir alles verstehen.
- D) vielleicht können wir darüber sprechen.
- E) weil wir sofort gehen müssen.

4. Französisch wird in Frankreich gesprochen.

Welche Frage paßt zur obigen Antwort?

Verilen cevabı gerektirecek soru aşağıdakilerden hangisidir?

- A) Wer möchte Französisch lernen?
- B) Wie hast du französisch gelem?
- C) Kannst du französisch sprechen?
- D) Wo wird französisch gesprochen?
- E) Können wir auch französisch lernen?

5. Die Kinder fassen sich an der Hand.

Wie lautet der obige Satz auf türkisch?

Verilen cümlelerin Türkçesi aşağıdakilerden hangisidir?

- A) Çocukların elleri boş kaldı.
- B) Çocuklar ellerini sallıyorlar.
- C) Çocuklar el ele tutuşuyorlar.
- D) Çocuklar ellerini yıkadılar.
- E) Çocukların elleri temiz.

6. ist groß und hat einen langen Hals.

Welches Wort paßt in die obige Lücke?

Cümlede boş bırakılan yeri aşağıdakilerden hangisi doğru şekilde tamamlar?

- A) Die Giraffe
- B) Der Elefant
- C) Das Krokodil
- D) Das Känguru
- E) Die Schildkröte

7. A:
B: Nein, was hat sie denn?
A: Sie hat eine Entzündung.

Welches ergänzt den obigen Dialog?

Verilen karşılıklı konuşmayı aşağıdakilerden hangisi tamamlar?

- A) Hast du gehört, daß unsere Lehrerin krank ist?
- B) Hast du heute deine Hausaufgaben gemacht?
- C) Kommt ihr heute mit?
- D) Warst du heute beim Arzt?
- E) Wann gehst du zum Arzt?

B

2012 3D 0106-B

8. Patientin / untersucht / die / Arzt / der

Wie kann man mit den obigen Wortgruppen einen vollständigen Satz bilden?

Verilen sözcük gruplarıyla kurulabilecek en anlamlı ve doğru cümle aşağıdakilerden hangisidir?

- A) Die Patientin der Arzt untersucht.
B) Die Arzt der untersucht Patientin.
C) Der Arzt untersucht die Patientin.
D) Der Patientin die untersucht Arzt.
E) Die Patientin untersucht der Arzt.

9. Fatma in der Türkei.

Welches Wort paßt in die obige Lücke?

Cümlede boş bırakılan yeri aşağıdakilerden hangisi doğru şekilde tamamlar?

- A) liegt
B) kommt
C) sieht
D) sitzt
E) lebt

10. Was hält dich fit?

Welche Antwort paßt nicht zur obigen Frage?

Aşağıdakilerden hangisi verilen sorunun cevabı olamaz?

- A) Ich fahre oft Fahrrad.
B) Ich gehe jeden Abend laufen.
C) Ich esse und schlafe gern.
D) Ich spiele mit Freunden Tennis.
E) Ich spiele jeden Tag Fußball.

11. Ich lege meine Bücher den Tisch.

Welches Wort paßt in die obige Lücke?

Cümlede boş bırakılan yeri aşağıdakilerden hangisi doğru şekilde tamamlar?

- A) rechts
B) in
C) links
D) auf
E) zwischen

12. Machst du Sport oder mit deinen Freunden?

Welches Wort paßt in die obige Lücke?

Cümlede boş bırakılan yeri aşağıdakilerden hangisi doğru şekilde tamamlar?

- A) jeden
B) kein
C) allein
D) selten
E) gleich

13. Womit machst du Musik?

Welche Antwort paßt zur obigen Frage?

Verilen sorunun cevabı aşağıdakilerden hangisidir?

- A) Wir haben früher nie Musik gehört.
B) Ich höre sehr gern klassische Musik.
C) Wir machen immer Musik.
D) Ich habe auch einen Computer.
E) Ich mache mit Trompete Musik.

14. A: Wie dein Lieblingssänger?
B: Lieblingssänger heißt Tarkan.

Welches ergänzt die Lücken im obigen Dialog?

Verilen karşılıklı konuşmada boş bırakılan yerleri aşağıdakilerden hangisi tamamlar?

- A) kennst / Dein
B) heißt / Mein
C) schreibst / Meine
D) singt / Deine
E) hört / Mir

15. Die Menschen spazieren in der Natur.

Welches Wort paßt in die obige Lücke?

Cümlede boş bırakılan yeri aşağıdakilerden hangisi doğru şekilde tamamlar?

- A) helfen
B) draussen
C) sind
D) oben
E) sich

2012 3D 0106-B

16. Wie lautet das Singular von "die Körper"?

"die Körper" sözcüğünün tekil hali aşağıdakilerden hangisidir?

- A) Der Körper
- B) Das Körper
- C) Die Körper
- D) Eine Körper
- E) Eines Körpers

17. Welche Familienfeste werden in der Türkei gefeiert?

Welche Antwort paßt zur obigen Frage?

Verilen sorunun cevabı aşağıdakilerden hangisidir?

- A) Es gibt auch religiöse Feste, die gefeiert werden müssen.
- B) Es gibt viele Ähnlichkeiten und Unterschiede zwischen den Festen.
- C) Ich habe ein Geschenk für meine Schwester gekauft.
- D) In der Türkei sind alle glücklich, wenn das Zuckerfest gefeiert wird.
- E) In der Türkei werden Familienfeste gefeiert, wenn jemand Geburtstag hat.

18. Ich spiele Klavier, ich alleine bin.

Welches Wort paßt in die obige Lücke?

Cümlede boş bırakılan yeri aşağıdakilerden hangisi doğru şekilde tamamlar?

- A) was
- B) wenn
- C) welche
- D) als
- E) ob

19. Die Studenten eine Klassenfahrt nach Antalya .

Welches Wort paßt in die obige Lücke?

Cümlede boş bırakılan yeri aşağıdakilerden hangisi doğru şekilde tamamlar?

- A) hören
- B) fahren
- C) sagen
- D) tragen
- E) planen

20. A:

B: Ich kenne die Musik von Beethoven.

A: Ach ja, die kenne ich auch.

Welches ergänzt den obigen Dialog?

Verilen karşılıklı konuşmayı aşağıdakilerden hangisi tamamlar?

- A) Hast du auch einen Lieblingssänger?
- B) Welche klassische Musik kennst du?
- C) Gehst du gern ins Konzert?
- D) Was ist deine Lieblingsmusik?
- E) Welche Gruppen hörst du gern?

SEÇMELİ FRANSIZCA 7

B

2012 3D 0106-B

Bu testin cevaplarını, cevap anahtarında
SEÇMELİ YABANCI DİL 7 sütununa
işaretleyiniz.

1. Il est un étudiant.

Choisissez le mot qui convient.

Cümledeki boşluğu aşağıdakilerden hangisi
doğru şekilde tamamlar?

- A) mieux
- B) meilleur
- C) bien
- D) bon
- E) sympa

2. On est ouvert du lundi vendredi.

Choisissez le mot qui convient.

Cümledeki boşluğu aşağıdakilerden hangisi
doğru şekilde tamamlar?

- A) dans
- B) de
- C) la
- D) au
- E) en

3. pas / d'alcool / beaucoup / prenez / ne
I II III IV V

Mettez dans le bon ordre.

Yukarıdaki kelimelerin anlamlı bir bütün
oluşturan sırası aşağıdakilerin hangisinde
doğru olarak verilmiştir?

- A) V, IV, I, III, II
- B) V, IV, III, II, I
- C) IV, V, I, II, III
- D) IV, III, II, V, I
- E) IV, I, V, II, III

4. - Bonjour, je voudrais parler à M. Lenoir.
- Oui,
- De Mme Chantal.

Choisissez l'expression qui convient.

Yukarıdaki konuşmada boş bırakılan yeri
aşağıdakilerden hangisi doğru şekilde
tamamlar?

- A) il est là?
- B) c'est toi.
- C) il est M. Lenoir.
- D) c'est de la part de qui?
- E) c'est moi.

5. Qu'est-ce que vous voulez boire?

Choisissez la traduction qui convient.

Yukarıdaki cümlelerin Türkçe karşılığı
aşağıdakilerden hangisidir?

- A) Bir şey alır mısınız?
- B) İçecek olarak ne alırsınız?
- C) Ne içmek istersiniz?
- D) İçecek ister misiniz?
- E) Size ne getireyim?

6. du sport pour être en bonne santé.

Choisissez le mot qui convient.

Cümledeki boşluğu aşağıdakilerden hangisi
doğru şekilde tamamlar?

- A) Faites
- B) Payez
- C) Signez
- D) Soyez
- E) Ouvrez

B

2012 3D 0106-B

7. Mon père 75 ans.

Choisissez le mot qui convient.

Cümledeki boşluğu aşağıdakilerden hangisi doğru şekilde tamamlar?

- A) a
- B) est
- C) ont
- D) as
- E) sont

8. Je n'ai rien compris.

Choisissez la traduction qui convient.

Yukarıdaki cümlelerin Türkçe karşılığı aşağıdakilerden hangisidir?

- A) Hiçbirini tanımıyorum.
- B) Hiçbir şey söylemedim.
- C) Hiçbir şey anlamadım.
- D) Hiç kimseyi görmedim.
- E) Hiç zamanım yok.

9. Le magasin ouvre ?

Choisissez le mot qui convient.

Cümledeki boşluğu aşağıdakilerden hangisi doğru şekilde tamamlar?

- A) combien
- B) est-ce
- C) devant
- D) en espèces
- E) quand

10. Hier soir, trop chaud.

Choisissez l'expression qui convient.

Cümledeki boşluğu aşağıdakilerden hangisi doğru şekilde tamamlar?

- A) je préfère
- B) c'est
- C) il faisait
- D) combien
- E) il y avait

11. Nous allons à l'école métro.

Choisissez le mot qui convient.

Cümledeki boşluğu aşağıdakilerden hangisi doğru şekilde tamamlar?

- A) dans
- B) au
- C) par
- D) en
- E) comme

12. Les films d'action; je(j') trouve triste.

Choisissez le mot qui convient.

Cümledeki boşluğu aşağıdakilerden hangisi doğru şekilde tamamlar?

- A) en
- B) la
- C) les
- D) y
- E) lui

13. Si tu es malade, tu te reposer.

Choisissez le mot qui convient.

Cümledeki boşluğu aşağıdakilerden hangisi doğru şekilde tamamlar?

- A) bien
- B) vais
- C) as
- D) malade
- E) dois

14. Elle dit qu'elle va venir demain.

Choisissez la traduction qui convient.

Yukarıdaki cümlelerin Türkçe karşılığı aşağıdakilerden hangisidir?

- A) Yarın gelmek istiyor.
- B) Yarın geleceğini söylüyor.
- C) Yarın gelmek istediğini söyledi.
- D) O, yarın gelecekti.
- E) Yarın gelip gelemeyeceği belli değil.

2012 3D 0106-B

15. Voudriez-vous rappeler plus tard?

Choisissez la traduction qui convient.**Yukarıdaki cümlelerin Türkçe karşılığı aşağıdakilerden hangisidir?**

- A) Sizi aramamızı ister misiniz?
- B) Daha sonra yine arar mısınız?
- C) Bir kaç dakika içinde telefon eder misiniz?
- D) Daha sonra sizi arayacaklar mı?
- E) Daha önce aradınız mı?

16. Je cherche un appartement louer.

Choisissez le mot qui convient.**Cümledeki boşluğu aşağıdakilerden hangisi doğru şekilde tamamlar?**

- A) à
- B) en
- C) par
- D) de
- E) qui

17. J'en ai assez cet ordinateur.

Choisissez le mot qui convient.**Cümledeki boşluğu aşağıdakilerden hangisi doğru şekilde tamamlar?**

- A) que
- B) sur
- C) pour
- D) par
- E) de

18. - livre voulez-vous acheter?
- Celui-ci.

Choisissez le mot qui convient.**Yukarıdaki konuşmada boş bırakılan yeri aşağıdakilerden hangisi doğru şekilde tamamlar?**

- A) Quelle
- B) Lequel
- C) De quoi
- D) Laquelle
- E) Lesquels

19. Je vous présente mon ami travaille chez Renault.

Choisissez le mot qui convient.**Cümledeki boşluğu aşağıdakilerden hangisi doğru şekilde tamamlar?**

- A) que
- B) en
- C) où
- D) quoi
- E) qui

20. A - Excusez-moi, vous avez l'heure?

B -

A - Je vous demande si vous avez l'heure.

B - Ah oui, il est dix heures et demie.

A - Merci.

Choisissez l'expression qui convient.**Yukarıdaki konuşmada boş bırakılan yeri aşağıdakilerden hangisi doğru şekilde tamamlar?**

- A) Quoi de neuf?
- B) Pardon?
- C) Tu vois?
- D) C'est ça?
- E) C'est de la part de qui?

SEÇMELİ İNGİLİZCE 7

B

2012 3D 0106-B

Bu testin cevaplarını, cevap anahtarında
SEÇMELİ YABANCI DİL 7 sütununa
işaretleyiniz.

1. Mary : Why didn't you have your breakfast?
Jill : Because I had had it.

Which of the following completes the dialogue above?

Aşağıdakilerden hangisi yukarıdaki konuşmayı doğru olarak tamamlar?

- A) before
- B) by the time
- C) after
- D) already
- E) until

2. I hadn't known Bob we met at Mary's party last month.

Which of the following completes the sentence above?

Aşağıdakilerden hangisi yukarıdaki cümleyi doğru olarak tamamlar?

- A) yet
- B) after
- C) already
- D) until
- E) just

3. I can't find my keys. I left them in the office.

Which of the following completes the sentence above?

Aşağıdakilerden hangisi yukarıdaki cümleyi doğru olarak tamamlar?

- A) might have
- B) should have
- C) will have
- D) must
- E) could

4. I had never pizza until I to Italy.

Which of the following completes the sentence above?

Aşağıdakilerden hangisi yukarıdaki cümleyi doğru olarak tamamlar?

- A) ate / gone
- B) ate / am going
- C) eat / go
- D) eaten / went
- E) eat / went

5. The film had finished when Sue arrived.

Which of the following completes the sentence above?

Aşağıdakilerden hangisi yukarıdaki cümleyi doğru olarak tamamlar?

- A) after
- B) yet
- C) just
- D) before
- E) until

6. Ann : What shall we do tomorrow?
Mary : We go shopping.

Which of the following completes the dialogue above?

Aşağıdakilerden hangisi yukarıdaki konuşmayı doğru olarak tamamlar?

- A) could
- B) shall
- C) might have
- D) have
- E) must have

7. If he pass his exams, he won't get a good job.

Which of the following completes the sentence above?

Aşağıdakilerden hangisi yukarıdaki cümleyi doğru olarak tamamlar?

- A) doesn't
- B) hasn't
- C) wouldn't
- D) didn't
- E) won't

B

2012 3D 0106-B

8. Carol has been playing snowball 1995.

Which of the following completes the sentence above?

Aşağıdakilerden hangisi yukarıdaki cümleyi doğru olarak tamamlar?

- A) for
- B) ago
- C) since
- D) last
- E) from

9. If it, I will wear my raincoat.

Which of the following completes the sentence above?

Aşağıdakilerden hangisi yukarıdaki cümleyi doğru olarak tamamlar?

- A) rain
- B) rained
- C) would rain
- D) was raining
- E) rains

10. monkeys are there in that cage?

Which of the following completes the sentence above?

Aşağıdakilerden hangisi yukarıdaki cümleyi doğru olarak tamamlar?

- A) How much
- B) What
- C) How many
- D) Where
- E) As

11. If you have a cold, you see a doctor.

Which of the following completes the sentence above?

Aşağıdakilerden hangisi yukarıdaki cümleyi doğru olarak tamamlar?

- A) would
- B) ought
- C) should have
- D) should
- E) ought to have

12. Mary : How money is there in the wallet?

Jill : There is a little.

Which of the following completes the dialogue above?

Aşağıdakilerden hangisi yukarıdaki konuşmayı doğru olarak tamamlar?

- A) some
- B) any
- C) much
- D) more
- E) many

13. I was feeling tired, I went to bed early.

Which of the following completes the sentence above?

Aşağıdakilerden hangisi yukarıdaki cümleyi doğru olarak tamamlar?

- A) Such as
- B) So that
- C) Who
- D) What
- E) As

14. I haven't seen him years.

Which of the following completes the sentence above?

Aşağıdakilerden hangisi yukarıdaki cümleyi doğru olarak tamamlar?

- A) now
- B) for
- C) ago
- D) after
- E) since

15. Dean said, "I bought a new car yesterday." Dean said that he had bought a new car

Which of the following completes the sentence above?

Aşağıdakilerden hangisi yukarıdaki cümleyi doğru olarak tamamlar?

- A) then
- B) the day before
- C) before
- D) the next day
- E) that day

2012 3D 0106-B

16. Ken told George, "I will go to Paris tomorrow".
Ken told George that he to Paris
the next day.

Which of the following completes the sentence above?

Aşağıdakilerden hangisi yukarıdaki cümleyi doğru olarak tamamlar?

- A) would go
- B) has gone
- C) will go
- D) is going
- E) had gone

17. Jack his house by the end of this week.

Which of the following completes the sentence above?

Aşağıdakilerden hangisi yukarıdaki cümleyi doğru olarak tamamlar?

- A) was moving
- B) moving
- C) moved
- D) be moved
- E) will have moved

18. He said, "There has never been a library in the town".
He said that there a library in the town.

Which of the following completes the sentence above?

Aşağıdakilerden hangisi yukarıdaki cümleyi doğru olarak tamamlar?

- A) would never be
- B) had never been
- C) will never be
- D) has never been
- E) could never be

19. Liz : Are you a doctor?
Alice : What does Liz want to know?
John : She wants to know if a doctor.

Which of the following completes the dialogue above?

Aşağıdakilerden hangisi yukarıdaki konuşmayı doğru olarak tamamlar?

- A) I will be
- B) I was
- C) I had been
- D) I have been
- E) I am

20. Gülçin said, "I'm going shopping today." She said that she was going shopping

Which of the following completes the sentence above?

Aşağıdakilerden hangisi yukarıdaki cümleyi doğru olarak tamamlar?

- A) after
- B) that day
- C) before
- D) then
- E) today

SEÇMELİ TÜRK EDEBİYATI 7

B

2012 3D 0106-B

1. "Seyir Defteri" adlı gezi kitabı aşağıdaki yazarlardan hangisine aittir?

- A) Özcan Yurdakul
- B) Nedim Gürsel
- C) Nahit Sırrı Örik
- D) Yaşar Kemal
- E) Falih Rıfkı Atay

2. Aşağıdakilerden hangisi, II. Dünya Savaşı yıllarında Türkiye'de yapılan milli eğitim ve kültür alanındaki atımlardan biri değildir?

- A) Gelenekçi edebiyatın getirdiği sınırlılıkların devam etmesi
- B) Köy enstitülerinin açılması
- C) Tercüme bürosunun kurulması
- D) Türk ve İslam Ansiklopedilerinin yayımına başlanması
- E) Halkevlerinin kültür sanat ve spor alanındaki etkinliklerinin artırılması

3. "Hatıralar" adlı anı kitabında Atatürk'ü anlatan yazar, aşağıdakilerden hangisidir?

- A) Ahmet İhsan Tokgöz
- B) Ahmet Rasim
- C) Salâh Bırsel
- D) Ruşen Eşref Üneydin
- E) Halit Ziya Uşaklıgil

4. "Akşam Musikîsi" adlı şiir aşağıdaki şairlerden hangisine aittir?

- A) Yusuf Ziya Ortaç
- B) Orhan Seyfi Orhan
- C) Enis Behiç Koryürek
- D) Halit Fahri Ozansoy
- E) Yahya Kemal Beyatlı

5. Dilin sade yazılması gerektiği hareketi 1911'de hangi dergide başlamıştır?

- A) Kadro
- B) Genç Kalemler
- C) Ülkü
- D) Varlık
- E) Orhun

6. Anlamda kapalılığı, değişik çağrılarla imgeci bir şiir anlayışını savunan edebiyat akımı, aşağıdakilerden hangisidir?

- A) Yedi Meşaleciler
- B) Birinci Yeni
- C) Fecr-i Âti
- D) İkinci Yeni
- E) Beş Hececiler

7. Hecenin Beş Şairi'nden biri olup, Anadolu edebiyatının en öne çıkan adıdır. İleri gazetesi adına 1922'de gittiği Ankara'da kalarak Kurtuluş hareketine katılmıştır. Milli ve yerli sanat anlayışına göre kaleme aldığı "Han Duvarları" adlı şiiri vardır.

Yukarıda sözü edilen şair aşağıdakilerden hangisidir?

- A) Süleyman Nazif
- B) Mehmet Âkif Ersoy
- C) Faruk Nafiz Çamlıbel
- D) Mehmet Emin Yurdakul
- E) Yahya Kemal Beyatlı

8. "Bugün Pazar" adlı şiir, aşağıdaki şairlerden hangisine aittir?

- A) Enver Gökçe
- B) Arif Damar
- C) Orhan Veli Kanık
- D) Ömer Faruk Toprak
- E) Nazım Hikmet

9. İtalyan edebiyatında en tanınmış anı yazarı aşağıdakilerden hangisidir?

- A) Manzoni
- B) Fillippo Marinetti
- C) Carlo Goldoni
- D) Silvio Pellica
- E) Alberto Moraio

10. Harf devrimi kaç yılında yapılmıştır?

- A) 1920
- B) 1924
- C) 1928
- D) 1930
- E) 1935

B

2012 3D 0106-B

11. Şiirlerinde daha çok "ölüm, kader" gibi temaları işleyen şair aşağıdakilerden hangisidir?

- A) Vasfi Mahir Kocatürk
- B) Ziya Osman Saba
- C) Faruk Nafiz Çamlıbel
- D) Kenan Hulusi Koray
- E) Muammer Lütfi

12. Deneme türünün öncüsü kabul edilen Fransız yazar, aşağıdakilerden hangisidir?

- A) Andre Malraux
- B) Jean Paul Sartre
- C) Simone de Beauver
- D) Montaigne
- E) Albert Camus

13. Aşağıdakilerden hangisi makalenin özelliklerinden biri değildir?

- A) Konu bakımından sınırlı olması
- B) Öne sürülen düşüncenin inandırıcı biçimde geliştirilmiş olması ve kanıtlanması
- C) Söz oyunlarına başvurulmaması
- D) Anlatımın yalın ve yoğun olması
- E) Sonucun bir iki cümleyle mutlaka vurgulanması

14. "Varlık" dergisinde ölçüsüz, uyaksız, şairanelikten uzak yeni bir şiir akımı başlatan üç şair, aşağıdakilerin hangisinde birlikte ve doğru olarak verilmiştir?

- A) Rıfat Ilgaz-Enver Gökçe- Oktay Rifat
- B) Attila İlhan-Orhan Veli Kanık-Melih Cevdet Anday
- C) Orhan Veli Kanık-Melih Cevdet Anday-Oktay Rifat
- D) Ömer Faruk Toprak-Arif Damar-Ahmet Arif
- E) Enver Gökçe-Arif Damar-Oktay Rifat

15. Günlük olayları, yurt sorunlarını veya herhangi bir konuyu belli bir görüş açısından ele alan kısa yazılara ne ad verilir?

- A) Fıkra
- B) Deneme
- C) Söylev
- D) Günce
- E) Anı

16. Yazarın herhangi bir konu üzerinde kesin hükümlere varmadan, kendi kişisel görüş ve düşüncelerini anlattığı yazı türüne ne ad verilir?

- A) Röportaj
- B) Makale
- C) Söylev
- D) Fıkra
- E) Deneme

17. Gezi edebiyatının ilk klasik örneğini veren seyyah aşağıdakilerden hangisidir?

- A) Marco Polo
- B) Victor Hugo
- C) Honore de Balzac
- D) Dostoyevski
- E) Stendhal

18. Aşağıdakilerden hangisi, fıkra türünün özelliklerinden biri değildir?

- A) Daha çok güncel konuların ele alınması
- B) Kısa yazılması
- C) Bilimsel olması
- D) Gazete ve dergilerde yayımlanması
- E) Amacının okuyucunun dikkatini çekmek onu düşünmeye yöneltmek olması

19. 2006'da Nobel Edebiyat Ödülü'nü kazanan yazar, aşağıdakilerden hangisidir?

- A) Buket Uzuner
- B) Orhan Pamuk
- C) Memi Uygur
- D) Yaşar Kemal
- E) Adalet Ağaoğlu

20. Aşağıdaki gazetelerden hangisini İbrahim Şinasi ve Âgah Efendi çıkarmıştır?

- A) Vakıf
- B) İrade-i Milliye
- C) Ceride-i Havadis
- D) Takvim-i Vekayi
- E) Tercüman-ı Ahval

SINAVDA UYGULANACAK KURALLAR

1. Sınav süresince görevlilerle konuşmak ve soru sormak yasaktır. Aynı şekilde görevlilerin de öğrencilerle yakından ve alçak sesle konuşmaları yasaktır. Yanınızda ve sıranızda dersle ilgili kitap not vb. bulundurmamak yasaktır. Sınav sırasında kopya yapan, yapmaya teşebbüs eden, kopya veren, kopya yapılmasına yardım edenlerin kimlikleri BİREYSEL SINAV İPTAL TUTANAĞINA yazılacak ve bu öğrencilerin sınavları geçersiz sayılacaktır. Görevliler kopya yapmaya veya vermeye kalkışanları uyarmak zorunda değildir, sorumluluk size aittir.
Sınavda yetki verilmiş görevliler, bu salondaki sınavın kurallara uygun biçimde yapılmadığını, toplu kopya girişiminde bulunulduğunu raporlarında bildirdikleri veya üniversite sınav merkezince yapılan incelemeler sonucu toplu kopya yapıldığı saptandığı takdirde, Anadolu Üniversitesinin yetkili organları bu salonda sınava giren öğrencilerin tümünün sınavını geçersiz sayar.
2. Öğrenciler sınav sırasında görevlilerin her türlü uyarılarına uymak zorundadır. Gerekğinde görevliler oturduğunuz yerleri değiştirebilir. Sınavınızın geçerli sayılması, her şeyden önce sınav kurallarına uymanıza bağlıdır. Kurallara aykırı davranışta bulunanların ve yapılacak uyarılara uymayanların kimlikleri BİREYSEL SINAV İPTAL TUTANAĞINA yazılacak ve sınavları geçersiz sayılacaktır.
3. Sınav sırasında herhangi bir nedenle dışarı çıkmak yasaktır. Sınavın başlamasını izleyen ilk 30 dakika ve sınav süresinin son 5 dakikası içinde, sınavlarını tamamlasalar bile hiçbir öğrencinin salondan çıkmasına izin verilmeyecektir. Sınavın başlamasını izleyen ilk 15 dakikadan sonra hiç bir öğrenci sınava alınamaz.
4. Biraz sonra soru kitapçıkları dağıtılacaktır. Cevaplamaya geçmeden önce size verilecek soru kitapçığının üzerinde ayrılan yere, adınızı, soyadınızı, öğrenci numaranızı ve bu salonun numarasını yazınız. Sınav sonunda soru kitapçıkları toplanacak ve sınav merkezinde tek tek incelenecektir. Soru Kitapçığının bir tek sayfası eksik çıksa bile sınavınız geçersiz sayılacaktır.
5. Size verilen Cevap Kâğıdının üzerinde yazan numara ve ismin size ait olduğunu kontrol ediniz. Cevap Kâğıdı size ait değilse, görevlileri uyarıp size ait Cevap Kâğıdını alınız. Daha sonra Cevap Kâğıdı üzerinde ayrılmış olan yerlere öğrenci numaranızı ve test grubunuzu kodlayınız, adınızı soyadınızı yazınız ve ilgili yeri imzalayınız.
6. Cevap Kâğıdına yazılacak her türlü yazı, rakam ve yapılacak işaretlemeler için siyah kurşun kalem kullanılacaktır. Tükenmez kalem veya dolmakalem kesinlikle kullanılmayacaktır. Cevapların tümü CEVAP KÂĞIDINA İŞARETLENECEKTİR. Soru Kitapçıkları üzerine yapılan işaretlemeler kesinlikle değerlendirilmez. Her dersin cevabı, o dersin isminin yazılı olduğu sütuna işaretlenmelidir. Yanlış sütuna yapacağınız işaretlemeler kesinlikle değerlendirilmez.
7. Soru Kitapçığının sayfalarındaki boş yerleri müsvedde yapmak için kullanabilirsiniz. Başka bir kâğıdı müsvedde olarak kullanmak yasaktır. Bu tür işlemleri yapanların sınavları geçersiz sayılır.
8. Öğrencilerin sorulara verdikleri yanıtları herhangi bir yere yazmaları ve bunu sınav salonundan dışarıya çıkarmaları yasaktır. Bu kurala uymayanların sınavları geçersiz sayılır.
9. Sınav sırasında öğrencilerin birbirinden kalem, silgi vb. şeyleri istemesi kesinlikle yasaktır. Yasağa uymayanların sınavı geçersiz sayılır.
10. Sınav sırasında hesap makinesi kullanılabilir. Ancak, hesap makinesinin sınav sırasında ödünç alınması, verilmesi ve değiştirilmesi yasaktır. (Data Bank vb. gibi özel elektronik donanımlar kullanılamaz.) Bu tür davranışlarda bulunanların sınavları geçersiz sayılır.
11. Öğrenciler sınava gelirken telsiz, cep telefonu, çağrı cihazı vb. iletişim araçları ile görüntü kaydetmeye yarayan fotoğraf makinesi, kamera vb. araçları getirmemeleri konusunda sınava giriş belgelerinde uyarılmışlardır. Buna rağmen yanlarında bu tür cihazları getirenlerin, bunları sınav sonrasında almak üzere salon başkanına teslim etmeleri gerekir. Bu cihazları sınav salonunda yanlarında bulunduran öğrencilerin, cihazları kapalı bile olsa, o oturumdaki sınavı geçersiz sayılacaktır. Bu cihazların kaybolmasından Üniversitemiz sorumlu olmayacaktır.
12. Biraz sonra dağıtılacak olan soru kitapçığında test ile ilgili açıklamalar yazılıdır. Bu açıklamaları okumadan ve size "SINAV BAŞLAMIŞTIR" denmeden soruları cevaplamaya başlamayınız.

SINAVLARINIZDA BAŞARILAR DİLERİZ.